

Les occupations du sol belge

1. **INDIQUE** de quel paysage il s'agit, **RELIE** aux définitions et enfin **LEGENDE** les différents paysages belges.

Le

dune	●
digue	●
plage	●
port	●

abri naturel ou artificiel aménagé pour recevoir les navires, pour l'embarquement et le débarquement de leur chargement	●
butte de sable formée par le vent sur le bord des mers	●
le bord de mer	●
longue construction destinée à contenir les eaux	●



●
 ●



●

Anvers, Belgique

Les

ferme

village

agriculture

travaux transformant le milieu naturel pour la production des végétaux et des animaux utiles à l'homme

exploitation agricole

lieu composé de peu d'habitants



Le

versant


industrie

voie navigable

activités économiques qui produisent des biens matériels par la transformation et la mise en œuvre de matières premières

chacune des deux pentes d'une montagne ou d'une vallée

plan d'eau sur lequel on peut naviguer



L'.....

hameau

forêt

vallée encaissée


prairie

petit groupe de maisons à l'écart d'un village

entaille dans un relief causée par un cours d'eau

grande étendue de terrain couverte d'arbres

terrain couvert d'herbes



.....
.....
.....
.....


Une

aéroport

autoroute









voie exclusivement réservée à la circulation des véhicules, ne comportant qu'un nombre limité d'accès, établis de façon à éviter tout cisaillement

installation destinée au trafic aérien public, permettant la réception et l'envol des avions



.....
.....

2. **RELIE** chaque occupation du sol au paysage correspondant

	● ●	agglomération	● ●	
	● ●	l'Ardenne	● ●	
	● ●	le littoral belge	● ●	
	● ●	les plateaux limoneux	● ●	

3. **COCHE** l'endroit/les endroits où tu pourrais trouver :

	grande ville	littoral belge	sillon Sambre-et-Meuse
un aéroport			
la plage			
une voie navigable			
une voie ferrée			
des industries			
forte population			
des digues			
des dunes			

4. **COCHE** où se trouve ton école en citant les caractéristiques

	Mon école se trouve :
	dans une grande ville
	au littoral belge
	dans l'Ardenne belge
	dans les plateaux limoneux
	dans le Sillon Sambre-et-Meuse

Car :

.....

.....

.....

Je dessine :

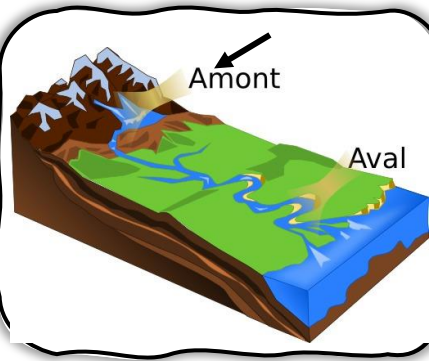
5. **COCHE** possible ou impossible

	possible	impossible
Je peux trouver un aéroport en Ardenne.		
J'habite dans une grande ville, mon voisin est fermier et possède 400 vaches.		
Je peux prendre le train puis le tram dans une grande ville belge comme Bruxelles.		
De ma fenêtre, je vois un bateau, je vis dans le Sillon Sambre-et-Meuse.		
Au littoral belge, je me balade en forêt.		
Je peux commencer un élevage de brebis si je déménage dans les plateaux limoneux.		

6. **COLORIE** de la même couleur les bulles qui vont ensemble

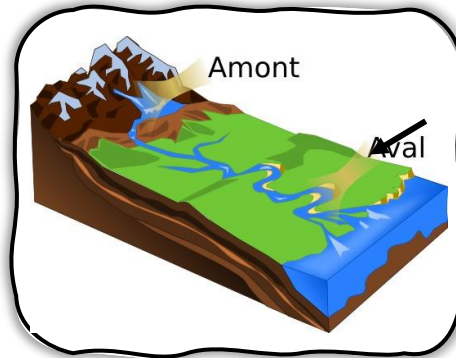
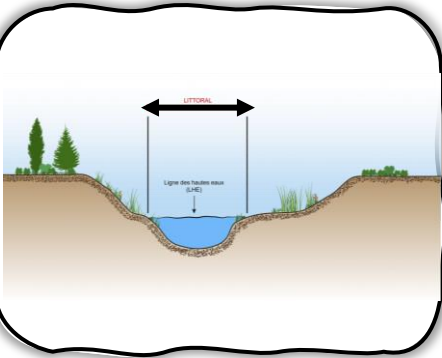
un versant

une rive



aval

le lit d'un cours d'eau



chacune des deux pentes d'une montagne ou d'une vallée

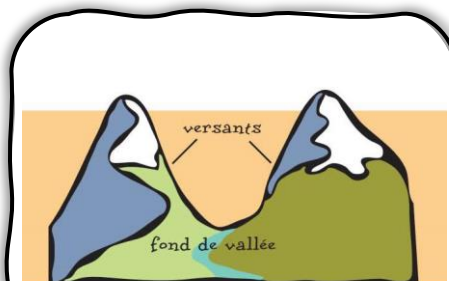


partie d'un cours d'eau en haut de la montagne

l'espace occupé par un cours d'eau, de façon permanente ou temporaire

partie d'un cours d'eau en bas de la montagne, dans la vallée

bande de terre qui borde un cours d'eau important



amont

7. **INDIQUE** où nous nous trouvons en Belgique à l'aide des éléments présents sur la photo



On se trouve au/à/dans :

Car :



On se trouve au/à/dans :

Car :



On se trouve au/à/dans :

Car :



On se trouve au/à/dans :

Car :



On se trouve au/à/dans :

Car :

8. COCHE vrai ou faux

	vrai	faux
Il y a deux rives : la gauche et la droite.		
Le lit d'un cours d'eau correspond à la hauteur de l'eau.		
Sur une montagne, il y a toujours un amont et un aval.		
Il existe 5 points cardinaux.		
Il y a deux versants sur une montagne.		

9. **REPASSE** la ligne d'horizon sur les paysages et **DECRIE** de quel type de courbe il s'agit (plane, courbée ou brisée).

1) Au littoral belge :



➡ La ligne d'horizon est _____.

2) Dans l'Ardenne belge :



➡ La ligne d'horizon est _____.

3) Dans le Sillon Sambre-et-Meuse :



➡ La ligne d'horizon est _____.

4) Dans une grande ville belge :



➡ La ligne d'horizon est _____.

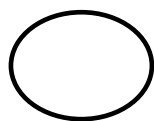

5) Dans les plateaux limoneux :



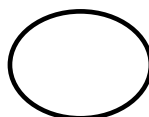
➡ La ligne d'horizon est _____.

10. **COLORIE** la bulle en orange s'il s'agit d'un paysage urbain et en bleu s'il s'agit d'un paysage rural.

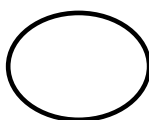
Ardennes belges



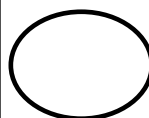
Plateaux limoneux



Littoral belge



Sillon Sambre-et-Meuse



Les occupations du sol belge

1. **INDIQUE** de quel paysage il s'agit, **RELIE** aux définitions et enfin **LEGENDE** les différents paysages belges.

Le littoral belge

dune		abri naturel ou artificiel aménagé pour recevoir les navires, pour l'embarquement et le débarquement de leur chargement
digue		butte de sable formée par le vent sur le bord des mers
plage		le bord de mer
port		longue construction destinée à contenir les eaux



Une plage

Une dune



Un port

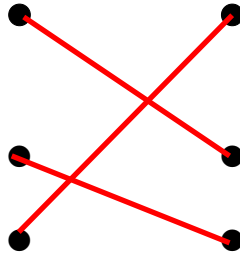
Anvers, Belgique

Les plateaux limoneux

ferme

village

agriculture



travaux transformant le milieu naturel pour la production des végétaux et des animaux utiles à l'homme

exploitation agricole

lieu composé de peu d'habitants



Un village

Une ferme

L'agriculture

Le Sillon Sambre-et-Meuse

versant

industrie


voie navigable



activités économiques qui produisent des biens matériels par la transformation et la mise en œuvre de matières premières

chacune des deux pentes d'une montagne ou d'une vallée

plan d'eau sur lequel on peut naviguer



Un versant

Une industrie

Une voie navigable

L'Ardenne belge

hameau

forêt

vallée encaissée


prairie

petit groupe de maisons à l'écart
d'un village

entaille dans un relief causée par
un cours d'eau

grande étendue de terrain
couverte d'arbres

terrain couvert d'herbes



Une forêt

Un hameau

Une vallée encaissée

Une prairie


Une agglomération/grande ville

aéroport

autoroute

voie exclusivement réservée à la
circulation des véhicules, ne
comportant qu'un nombre limité
d'accès, établis de façon à éviter
tout cisaillement


installation destinée au trafic
aérien public, permettant la
réception et l'envol des avions



Un aéroport

Une autoroute

2. **RELIE** chaque occupation du sol au paysage correspondant




agglomération

l'Ardenne

le littoral belge

les plateaux limoneux



3. **COCHE** l'endroit/les endroits où tu pourrais trouver :

	grande ville	littoral belge	sillon Sambre-et-Meuse
un aéroport	x		
la plage		x	
une voie navigable		x	x
une voie ferrée	x	x	x
des industries	x	x	x
forte population	x	x	x
des digues		x	
des dunes		x	

4. **COCHE** où se trouve ton école en citant les caractéristiques

	Mon école se trouve :
	dans une grande ville
	au littoral belge
	dans l'Ardenne belge
	dans les plateaux limoneux
	dans le Sillon Sambre-et-Meuse

Car : **réponse individuelle**

Je dessine :

Dessin individuel

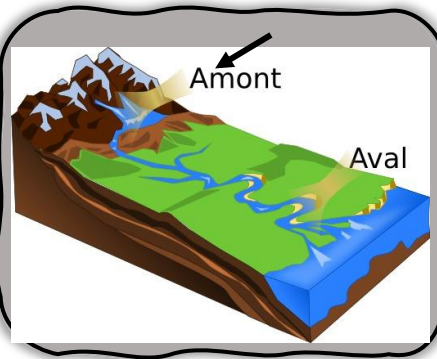
5. **COCHE** possible ou impossible

	possible	impossible
Je peux trouver un aéroport en Ardenne.	X	
J'habite dans une grande ville, mon voisin est fermier et possède 400 vaches.		X
Je peux prendre le train puis le tram dans une grande ville belge comme Bruxelles.	X	
De ma fenêtre, je vois un bateau, je vis dans le Sillon Sambre-et-Meuse.	X	
Au littoral belge, je me balade en forêt.		X
Je peux commencer un élevage de brebis si je déménage dans les plateaux limoneux.	X	

6. **COLORIE** de la même couleur les bulles qui vont ensemble

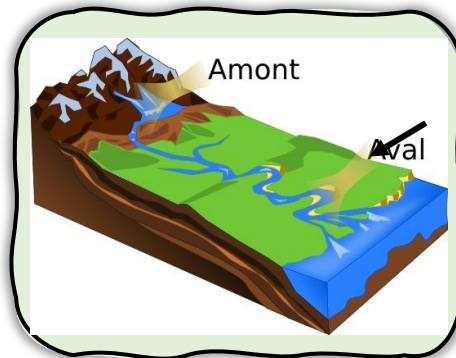
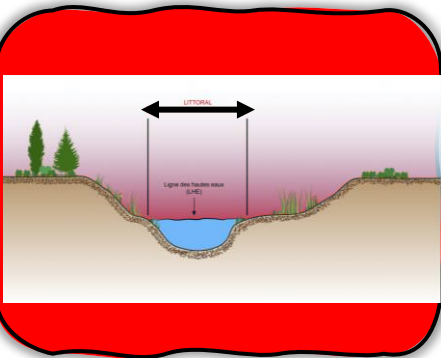
un versant

une rive



aval

le lit d'un cours d'eau



chacune des deux pentes d'une montagne ou d'une vallée

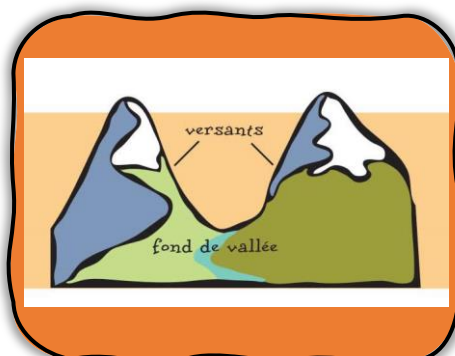


partie d'un cours d'eau en haut de la montagne

l'espace occupé par un cours d'eau, de façon permanente ou temporaire

partie d'un cours d'eau en bas de la montagne, dans la vallée

bande de terre qui borde un cours d'eau important



amont

7. **INDIQUE** où nous nous trouvons en Belgique à l'aide des éléments présents sur la photo



On se trouve au/à/dans :

Ardenne belge

Car :

On voit une forêt, un hameau, des prairies, ...



On se trouve au/à/dans :

Littoral belge

Car :

On voit la plage, la mer, la digue, ...



On se trouve au/à/dans :

Les plateaux limoneux

Car :

C'est un paysage ouvert, surface plane, on voit des champs, un village, ...

...



On se trouve au/à/dans :

Une grande ville belge

Car :

On voit de nombreuses maisons, grands bâtiments, population nombreuse, ...



On se trouve au/à/dans : Le Sillon Sambre-et-Meuse

Car :

On voit une voie navigable, un habitat dense, des industries, ...

8. COCHE vrai ou faux

	vrai	faux
Il y a deux rives : la gauche et la droite.	×	
Le lit d'un cours d'eau correspond à la hauteur de l'eau.		×
Sur une montagne, il y a toujours un amont et un aval.	×	
Il existe 5 points cardinaux.		×
Il y a deux versants sur une montagne.	×	

9. **REPASSE** la ligne d'horizon sur les paysages et **DECRIE** de quel type de courbe il s'agit (plane, courbée ou brisée).

1) Au littoral belge :



➡ La ligne d'horizon est **plane**.

2) Dans l'Ardenne belge :



➡ La ligne d'horizon est **courbe**.

3) Dans le Sillon Sambre-et-Meuse :



➡ La ligne d'horizon est **courbe**.

4) Dans une grande ville belge :



➡ La ligne d'horizon est **brisée**.


5) Dans les plateaux limoneux :




➡ La ligne d'horizon est **plane**.

10. **COLORIE** la bulle en orange s'il s'agit d'un paysage urbain et en bleu s'il s'agit d'un paysage rural.


Ardennes belges



Plateaux limoneux



Littoral belge



Sillon Sambre-et-Meuse

