

**Республиканская олимпиада по истории 2019 г.  
3-й этап.**

**10 класс. ОТВЕТЫ**

1  
– 235 (20+20+63+20+46+25+10+7+10+14)

1


**ДАЙТЕ ОПРЕДЕЛЕНИЕ ПРЕДСТАВЛЕННЫМ ПОНЯТИЯМ**  
(по 2 балла за полное правильное определение)

<b>Родовая община</b> –	,
<b>Предание</b> –	.
<b>Монархия</b> –	, –
<b>Султан</b> –	.
<b>Феод</b> –	, , ,
<b>Посадник</b> –	–
<b>Скрипторий</b> –	( ), ,
<b>Ратуша</b> –	,
<b>Товар</b> –	, .
<b>Ярлык (в Средние века)</b> –	, ( )



3

**ВНИМАТЕЛЬНО РАССМОТРИТЕ ИЛЛЮСТРАЦИЮ  
И ОТВЕЬТЕ НА ВОПРОСЫ**



**1. Укажите полное название картины и назовите художника, ее создавшего. (2 балла)**

« \_\_\_\_\_ » ( « \_\_\_\_\_ » )

**2. В какое время написана картина и под влиянием каких событий? (3 балла)**

\_\_\_\_\_ 1 8 6 6  
\_\_\_\_\_ , \_\_\_\_\_ , \_\_\_\_\_

**3. Назовите событие, изображенное на картине. (2 балла)**

1 7 7 3 \_\_\_\_\_ « \_\_\_\_\_ »

**4. Объясните, почему данное событие стало возможным. (4 балла)**

\_\_\_\_\_ , \_\_\_\_\_ , \_\_\_\_\_

**5. Назовите, какие последствия имело данное событие. (2 балла)**

1830-1831, 1863-1 8 6 4 \_\_\_\_\_ , \_\_\_\_\_ , \_\_\_\_\_

**6. Определите основных героев картины. (20 баллов, по 2 за персоналию)**

1. \_\_\_\_\_

2.  
3.  
4.  
5.  
6. «  
7. ,  
8.  
9.  
10.

**7. Кто из персонажей и изображений на данной картине в реальности не мог там находиться или изображаться.  
(24 балла, по 3 балла за позицию)**

- 
- 
- 
- 
- 
- 
- 
- 

**8. Какое символическое значение несут изображенные на картине предметы и одежда персонажей? Какую информацию тем самым автор хотел этим донести до зрителя? (6 баллов)**

(

4

**ВНИМАТЕЛЬНО РАССМОТРИТЕ ИЛЛЮСТРАЦИЮ  
И ОТВЕЬТЕ НА ВОПРОСЫ**



**1. Кто является автором данной гравюры из знаменитого календарного цикла? (2 балла)**

**2. Какие месяцы года изображены на данной гравюре? (2 балла)**

**3. Какие традиционные занятия крестьян изображены на гравюре?  
(5 баллов)**

**4. Перечислите виды гравюр, которые были распространены в новое время в Речи Посполитой. (6 баллов)**

**5. С какой белорусской типографией при высшем учебном заведении сотрудничал автор этой гравюры? (2 балла)**

**6. В какой книге был издан знаменитый календарный цикл этого автора? (3 балла)**

" Ros a r i u m e t o f f i c i u m B e a  
, "1677 . . . "

5

**ЗАПОЛНИТЕ ТАБЛИЦУ  
«ЕВРОПЕЙСКИЕ КОНФЛИКТЫ XVII – XVIII ВВ.»  
И ОТВЕЬТЕ НА ВОПРОСЫ К ТАБЛИЦЕ**

*Задание оценивается в 46 баллов*

Год (годы)	Название военного конфликта	Основная причина (причины)	Название мирного договора и политические результаты	Основные противоборствующие стороны
1618 – 1648		1)          2)	1) 2)  (    ). 3)  4) 5)	-  (  ,  ,  )
1701 – 1714		(          )	1) 2)   3)  4)  5)	,  ,          ,  .







## ИЗ КОНСТИТУЦИИ ПОЛЬСКОЙ РЕСПУБЛИКИ

( 1 7 1 9 2 1 . )

*Разд. I. Республика*

Ст. 2.

*Разд. II. Законодательная власть*

Ст. 11.

Ст. 35.

3 0

*Разд. III. Исполнительная власть*

Ст. 44.

*Разд. V. Всеобщие гражданские обязанности и права*

Ст. 109.

Ст. 110.

1. Что представлял собой сейм? Какими полномочиями и обязанностями он был наделен? (3 балла)

1 9 2 1 .

2. Какие обязанности были возложены на президента Польской Республики? (3 балла)

7 .

3. Какие права были гарантированы национальным меньшинствам? (2 балла)

4. Является ли «Мартовская» конституция 1921 г. одной из самых демократичных конституций в Европе на период начала XX в.? (2 балла)

« . . . » 1 9 2 1 .

10

ПРОЧИТАЙТЕ ТЕКСТ И ОТВЕТЬТЕ НА ВОПРОСЫ

[ ...]		[ ...]
--------	--	--------

1. Про какое событие идет речь в стихотворении? (2 балла)

-
---

2. Когда произошло это событие? (2 балла)

1 7 — 1 9 1 9 4 4
-------------------

3. На территории какой страны оно произошло? (1 балл)

-
---




4. Назовите итоги этого события. (2 балла)

» , .
-------

5. В составе каких формирований принимали участие в этом событии белорусы? (2 балла)

« - - 52 .
------------

6. Выберите из предложенных фотографий ту, на которой изображен объект, связанный со стихотворением. Назовите этот объект. (Два других объекта подписывать не надо). (3 балла)

		
- i		

7. Напишите, как с этим объектом связан Святой Бенедикт. (2 балла)

; 6 . ) -
-----------