

ИСТОРИЯ ВСЕМИРНАЯ.

Выберите правильный ответ:

1. Демократический строй в Афинах был восстановлен в:

а) 431 г. до н. э.; б) 405 г. до н. э.; в) 404 г. до н. э.; г) 403 г. до н. э.

2. Верны ли следующие утверждения? Рядом с каждым напишите «да» либо «нет».

а) После Греко-персидских войн главную роль стали играть Афины и Спарта. +

б) В Пелопоннесской войне победила Спарта. +

в) После ухода спартанцев в Афинах была восстановлена демократия. +

г) Битва при «Козьих речках» произошла в 405 г. –

3. Верны ли следующие утверждения? Рядом с каждым напишите «да» либо «нет».

а) В Спарте высшая власть принадлежала демосу. –

б) На земле спартанцев трудились аристократы. –

в) Государственный строй Спарты был олигархическим. +

г) В Совет старейшин входило 28 человек. +

4. Готы нанесли поражение римской армии при Адрианополе в:

а) 378 г.; б) 395 г.; в) 410 г.; г) 476 г.

5. Крестоносцы штурмом взяли город Иерусалим в:

а) 1096 г.; б) 1097 г.; в) 1098 г.; г) 1099 г.

Найдите несколько правильных ответов:

6. Эпоха Просвещения основывалась на:

1) теории разделения властей;

2) теории «просвещенного государства»;

3) теории народного суверенитета;

4) теории естественного права.

7. Широкое распространение образования в высокоразвитых странах Западной Европы в XIX в. было связано с:

1) улучшением материального положения людей;

2) доступностью для большинства категорий людей;

3) открытием новых университетов;

4) желанием людей больше узнать окружающий мир;

5) потребностью в квалифицированных рабочих.

8. Согласны ли вы с утверждениями, исправьте возможные ошибки.

А) В конце XIX в. США выдвинули внешнеполитический лозунг «Америка для американцев» *Нет. В конце XIX в. США выдвинули внешнеполитический лозунг «Америка для США».*





Б) В пореформенное время Россия вышла на второе место в мире по экспорту зерна. *Нет. В пореформенное время Россия вышла на первое место в мире по экспорту зерна.*

В) В результате Первой мировой войны прекратили существование три империи. *Нет. В результате Первой мировой войны прекратили существование четыре империи (Российская, Австро-Венгерская, Германская, Османская)*

9. Назовите либо автора картины (вверху), либо её название (внизу):

А) Э. Делакруа	Б) Караваджо	В) И. Репин
		
«Свобода, ведущая народ»	«Положение во гроб»	«Бурлаки на Волге»

10. Установите соответствие писателей с их портретными изображениями:

1) Стендаль	2) В. Скотт	3) И. С. Тургенев	4) А. Конан Дойль
А) 	Б) 	В) 	Г) 

ОТВЕТ: 1Г; 2В; 3А; 4Б.

11. Правителей России и события, произошедшие при их правлении:

1	Пётр I	А	Принятие Соборного уложения
		Б	Установление опричнины
		В	Подавление восстания Емельяна Пугачёва
2	Екатерина II	Г	Создание Сената и Синода
		Д	Первый созыв Земского собора
		Е	Подавление восстания Степана Разина
3	Иван Грозный	Ж	Основание Санкт-Петербурга
		З	Столбовский мир
		И	Замена приказов коллегиями
		К	Создание приказов
		Л	Присоединение Крымского ханства
		М	Издание «Табеля о рангах»
		Н	Деулинское перемирие
		О	Присоединение Левобережной Украины
		П	Присоединение Казанского и Астраханского ханств
		Р	Создание регулярной армии и военно-морского флота

ОТВЕТ: 1–Г,Ж,И,М,Р; 2–В,Л; 3–Б,Д,К,П.

12. События 1930-х гг.:

1	Начало гражданской войны в Испании	А	1935 г.
2	Занятие германским вермахтом Клайпедской (Мемельской) Литвы	Б	1936 г.
3	Агрессия Италии против Абиссинии (Эфиопии)	В	1938 г.
4	Германские войска заняли Судеты	Г	1939 г.

ОТВЕТ: 1Б,2Г,3А,4В.

13. События 2-й пол. XX в.:

1	Начало реализации США «стратегической оборонной инициативы»	А	1955 г.
2	Подписание хартии для новой Европы	Б	1957 г.
3	Создание организации Варшавского договора	В	1983 г.
4	Создание Европейского экономического сообщества, или Общего рынка	Г	1990 г.





ОТВЕТ: 1В,2Г,3А,4Б.

14. Установите хронологическую последовательность (события истории России):

- | | |
|-------------------------------------------|------------------------------|
| А. Крымская война; | Д. Создание РСДРП; |
| Б. Убийство Александра II; | Е. Восстание декабристов; |
| В. Февральская революция; | Ж. Русско-японская война; |
| Г. Введение всеобщей воинской повинности; | З. Отмена крепостного права. |

ОТВЕТ: Е-А-З-Г-Б-Д-Ж-В

15. Выполните задания по карте:







<p>А) Осенью 1939 г. территория, заштрихованная на карте: 1) была взята под контроль Лиги Наций; 2) была оккупирована Германией; 3) вошла в состав СССР; 4) вошла в состав Польши.</p>	<p>Б) Территория государства, с которым СССР в 1926 г. подписал договор о ненападении и нейтралитете, обозначена на карте цифрой: 1) 1; 2) <u>2</u>; 3) 3; 4) 4.</p>
	
<p>В) Маршрут, который обозначен на карте, в годы Великой Отечественной войны называли...«Дорога жизни»</p>	<p>Г) Последней операцией Второй мировой войны в Европе после капитуляции Берлина было освобождение города, обозначенного на карте точкой с цифрой: 1) 1; 2) <u>2</u>; 3) 3; 4) 4.</p>
	

<p>Д) В результате войны против Франции (1954–1962 гг.) добилось независимости государство, территория которого обозначена на карте цифрой: 1) <u>I</u>; 2) 2; 3) 3; 4) 4.</p>	<p>Е) В результате осуществления Плана Маунтбеттена в 1947 г. получило независимость государство, территория которого обозначена на карте цифрой: 1) <u>I</u>; 2) 2; 3) 3; 4) 4.</p>
	

16. Рассмотрите карикатуру и ответьте на вопросы:



А) Внимательно рассмотрите, как поименованы главные персонажи карикатуры, определите их реальные исторические «прототипы» среди представленных снизу портретов и укажите их (обведите буквы правильных ответов):


<u>А</u>	<u>Б</u>	<u>В</u>	<u>Г</u>	<u>Д</u>	<u>Е</u>
					

Б) Внимательно посмотрите на карту и укажите направления, по которым наступали армии указанных на карикатуре генералов:



ОТВЕТ:

- 1– Юденич
- 2–
- 3– Деникин
- 4– Колчак

1	2	3
		
М. Фрунзе		

В) Советский государственный и военный деятель. Создатель народной милиции в Минске. В годы Гражданской войны провел успешные операции против главных войск А. В. Колчака, П. Н. Врангеля, разгромил Повстанческую армию Н. И. Махно. После

Гражданской войны занимал должность наркома по военным и морским делам. **Подпишите его портрет внизу под изображением!**

17. Внимательно прочтите фрагмент документа и ответьте на вопросы:

«...Мы с Вами подошли сейчас к завершающей стадии ликвидации напряженности вокруг о. Мы, г-н Президент, уже выполнили свои обязательства ... и даже досрочно... От того, как Вы сейчас будете выполнять взятые на себя обязательства, зависит все, зависит стабильность в этом районе и не только в этом районе, но и во всем мире... Мы считаем, что данные Вами гарантии ... будут соблюдаться и притом не только во время Вашего пребывания в Белом Доме...»

А) Напишите, какое название получило событие, речь о котором идет в документе?

«Карибский кризис».....



Б) Внимательно посмотрите на карту и укажите название острова, с которым связаны эти события?

Куба.....

В) В каком году они произошли? 1962.....

Г) Какие «обязательства» (исходя из текста) выполнил СССР? Демонтаж советских ракетных установок, погрузка их на корабли и вывод с территории Кубы.....

Д) Назовите фамилию (подпишите портрет) и должности (подпишите под портретом) (Хрущев – первый секретарь ЦК КПСС, Председатель Совета министров СССР) того, кто направил послание, а также укажите фамилию его приемника (подпишите портрет)

I Л.И.Брежнев	II	III Н.С.Хрущев
		



Е) Назовите фамилию того, кому адресовано послание (подпишите портрет)

Ж) Что произошло с «адресатом» в 1963 г. и где это случилось? 22 ноября 1963 года в Далласе



З) Укажите фамилию (подпишите портрет) лидера островного государства, вокруг которого развернулись эти события.

18. Заполните таблицу «Германия во 2 пол. XX в.» (для заполнения, при необходимости, используйте обратную чистую сторону листа!)

№	Вопросы	Раскол Германии	Объединение Германии
1	Условия способствовавшие данному событию		
2	Дата		
3	Название образовавшихся государств		
4	Результаты, значение		

19. Исторические личности (подпишите фамилии над портретами):



Д) Си Цзиньпин	Е) А.Меркель	Ж) Э.Макрон	З) Б. Асад
			

20. Термины и определения (впишите термин или дайте определение):

	Термин	Определение
1	Апартеид	официальная политика расовой сегрегации и дискриминации, проводившаяся правившей в ЮАР с 1948 по 1994 гг. Национальной партией.
2	«Бархатные революции»	процесс бескровного демонтажа социалистических режимов в восточноевропейских странах в конце 1980-х — начале 1990-х гг.
3	Космополитизм	мировоззрение «мирового гражданства», ставящее общечеловеческие интересы и ценности выше интересов отдельной нации.
4	Маккартизм	движение в общественной жизни США с конца 1940-х до конца 1950-х гг., сопровождавшееся обострением антикоммунистических настроений и политическими репрессиями против инакомыслящих.
5	«Странная война»	начальный период Второй мировой войны с сентября 1939 до апреля 1940 г., когда правительства Франции и Великобритании, несмотря на объявление ими 3 сентября 1939 г. войны фашистской Германии, не вели активных действий на Западном фронте.
6	Коллаборационизм	добровольное военное, политическое и экономическое сотрудничество граждан государств антигитлеровской коалиции с оккупационными властями Германии, Италии и Японии в годы Второй мировой войны.
7	Ленд-лиз	система, по которой США в период Второй мировой войны поставляли вооружение, боеприпасы, продовольствие и другие материальные ресурсы союзникам по антигитлеровской коалиции на условиях долгосрочного кредита или аренды.
8	Коммунистический Интернационал (Коминтерн)	международное объединение коммунистических партий различных стран, созданное по инициативе В. И. Ленина для осуществления идеи мировой социалистической революции. Существовал в 1919—1943 гг.

**ИСТОРИЯ ВСЕМИРНАЯ – ИСТОРИЯ БЕЛАРУСИ.
ОТМЕТЬТЕ «+» В СООТВЕТСТВУЮЩЕМ МЕСТЕ, КАКОЕ СОБЫТИЕ
ПРОИЗОШЛО РАНЬШЕ**

История Беларуси			Всемирная история		
1.	V	Выпуск первых самосвалов на Минском автомобильном заводе 1947	ИЛИ		Создание ОВД 1955
2.	V	Переименование СНК БССР в Совет Министров БССР 1946	ИЛИ		Смерть И. Сталина 1953
3.		Начало пятой пятилетки 1951	ИЛИ	V	Образование ООН 1945
4		Утвержден государственный флаг БССР 1951	ИЛИ	V	Начало Корейской войны 1950
5.	V	Отмена карточной системы 1947	ИЛИ		Образование КНР 1949
6.		Начало проведение сплошной коллективизации в западных областях БССР 1949	ИЛИ	V	Предоставление независимости Индии и Пакистану 1947
7.		Промышленное производство БССР превысило довоенный уровень 1950	ИЛИ	V	Начало реализации «плана Маршалла» 1948
8.	V	Начало «пятилетки восстановления» экономики БССР 1946	ИЛИ		Создание НАТО 1949
9.		Начало выпуска тракторов на МТЗ 1950	ИЛИ	V	Образование государства Израиль 1948
10.		Начало выпуска колёсных тракторов на МТЗ 1953	ИЛИ	V	Образование ЕОУС 1951

ИСТОРИЯ БЕЛАРУСИ.

Выберите правильный ответ:

1. Открытие железа на территории Беларуси привело к:

- 1) появлению новых более совершенных орудий труда;
- 2) объединению родов в племена;
- 3) появлению керамических изделий;

4) изобретению лука и стрел.

2. Одной из причин раздробленности Полоцкой земли в начале XII в. было(-а):

- 1) введение христианства;
- 2) опасность со стороны монголо-татар;
- 3) отсутствие прочных постоянных экономических связей между землями в условиях господства натурального хозяйства;
- 4) стремление захватить торговый путь «из варяг в греки».

3. Киевский князь, который в 1084 г. захватил и разрушил Менск, не оставив в нем «ни скотины, ни челядины», – это:

- 1) Владимир Святославич;
- 2) Ярослав Мудрый;
- 3) Владимир Мономах;
- 4) Мстислав Владимирович.

4. Великое Княжество Литовское во второй половине XIII — XIV в. характеризовалось:

- 1) терпимым отношением к разным религиям;
- 2) отсутствием в государстве каких бы то ни было прав и привилегий отдельных земель;
- 3) опорой великокняжеской власти на наемников-крестоносцев;
- 4) господством литовского языка во всех сферах жизни.

5. Определите правильное утверждение:

- 1) соглашение публично-правового характера между шляхтой Речи Посполитой и новоизбранным королем определялись законодательным актом «Генриховы артикулы»;
- 2) в соответствии с актом Люблинской унии в Речи Посполитой установилась наследственная монархия;
- 3) по условиям Люблинской унии ВКЛ получило право определять свою внешнюю политику;
- 4) после заключения Люблинской унии ВКЛ сохранило свою денежную единицу.

Найдите несколько правильных ответов:

6. Определите три исторических события, которые произошли во второй половине XVII — первой половине XVIII в.

- 1) Создание Трибунала ВКЛ;
- 2) заключение Андросовского перемирия;
- 3) Северная война между Швецией и Речью Посполитой;
- 4) заключение Брестской церковной унии;
- 5) восстание крестьян под руководством В. Ващилы;
- 6) основание Виленской академии

7. Определите характерные черты земской реформы в Беларуси.

- 1) Проводилась не во всех белорусских губерниях;
- 2) деятельность земств освобождалась от контроля государственной власти;
- 3) в белорусских губерниях земства получили право заниматься политическими делами;
- 4) во время выборов в земства проводилось разделение выборщиков по национально-религиозным куриям;
- 5) земства не вводились на территории Виленской и Гродненской губерний.

8. Вычеркните лишнее (только один элемент!).

Партия кадетов после Февральской революции 1917 г. выступала за:

- 1) продолжение войны до победы;
- 2) созыв после войны Учредительного собрания;
- 3) наделение крестьян землей без выкупа;
- 4) принятие Конституции;
- 5) отмену всех ограничений в правах национальностей;
- 6) свободу применения национальных языков.

9. Назовите фамилии людей, руководствуясь описанием их деятельности:






	<i>Характеристика</i>	<i>Ответ (фамилия)</i>
1	Он поднял мятеж в августе 1917 г. с целью установления военной диктатуры.	Л. Корнилов
2	Художник, автор серии картин по мотивам творчества А. Мицкевича, автор всемирно известной картины «Похороны Гедимины».	К. Альхимович
3	Президент Гавайской республики, уроженец Беларуси, автор научных работ по медицине, химии, философии, географии.	Н. Судзиловский

10. Установите соответствие: Изображение и характеристику с личностью:

Личности:

1	2	3	4	5
Станислав Август Понятовский.	Ян III Собеский	Михаил Казимир Огинский	Кароль Станислав Радзивилл	Адам Нарушевич

Изображение:

А	Б	В	Г	Д
				

Характеристика:

I	По инициативе короля Речи Посполитой этот уроженец Пинщины создал «Историю польского народа». Для написания книги он создал группу копировальщиков. Их направили в Германию, Италию, Швейцарию для переписывания исторических документов. Исследователь интересовался взаимоотношениями церкви и государства, происхождением крепостного права, способами преодоления упадка страны. Его идеалом была сильная королевская власть.
II	Родился в деревне Волчин (около Бреста). Происходил из знаменитого шляхетского рода. Получил хорошее образование. Много путешествовал по европейским странам. В 1755-1758 гг. занимал должность секретаря английского посольства в Петербурге, был послом от Саксонии и Речи

	Посполитой.
III	Представитель древнего магнатского рода. Годы жизни - 1734-1790. Учился в Несвижском иезуитском коллегиуме. Занимал должность маршалка Трибунала ВКЛ, виленского воеводы. Владел большими имениями в ВКЛ, Польше, Литве, Украине. Вошёл в историю как легкомысленный политик и ограниченный своевольный человек. Был очень популярен среди шляхты ВКЛ
IV	Представитель магнатского рода. Гетман великий ВКЛ, композитор, поэт, меценат. Некоторое время жил во Франции, затем в России. От Екатерины II получил орден Андрея Первозванного. Поддержал Барскую конфедерацию. После её разгрома выехал в Европу. Затем вернулся в Слоним, где основал мануфактуры, типографию, театр.
V	Окончил Краковский университет, много путешествовал по Европе. Меценат, покровитель науки и искусства. Он известен своими военными успехами - победил турок и татар в Хотинской битве, разгромил войско Османской империи в битве под Веной. Его называли “королём- сарматом”.

ОТВЕТ: 1DII; 2BV; 3AIV; 4BIII; 5GI.

11. Соотнесите идею с автором или наиболее активным её приверженцем, а также его портретом:





Автор:

1	2	3	4
Вацлав Ластовский	Михаил Коялович	Роман Скирмунт	Антон Луцкевич

Идея:

A	Первым, среди белорусских политических лидеров, высказал идею полной независимости Беларуси в её этнографических границах.
B	В Государственной думе отстаивал идею автономии Белорусского края в составе Российской империи.
B	Автор идеи создания союза независимых государств - Соединённых штатов Беларуси, Литвы, Латвии и Украины.
Г	Сторонник западноруссизма. Считал, что главное направление развития белорусского края - возвращение его от польского католицизма к русскому православию.

Портрет автора:

I	II	III	IV
			

ОТВЕТ: 1AI, 2GI, 3BIII, 4BIV.

12. Установите соответствие:

A	второе провозглашение Советской Социалистической Республики Беларуси	1	1918 г.
B	заключение Брестского мирного договора	2	1920 г.
B	X съезд РКП(б). Принятие новой экономической политики	3	1921г.
Г	создание Института белорусской культуры	4	1922 г.

ОТВЕТ: A2; B1; B3; Г4

13. Установите соответствие:

А	Участник операции по уничтожению генерального комиссара Беларуси В. Кубе	1	В. Хоружая
Б	Командующий 2-м Белорусским фронтом во время проведения операции «Багратион»	2	Г.Захаров
В	Один из руководителей Витебского подполья	3	А.Бурдейный
Г	Командир гвардейского танкового корпуса, который участвовал в освобождении Минска в 1944 г.	4	М.Осипова

ОТВЕТ: А4;Б2;В1;Г3.

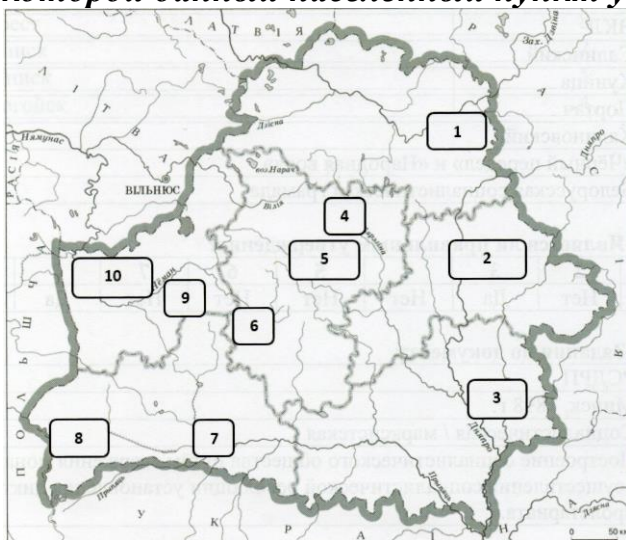
14. Установите хронологическую последовательность:

- А) начало польско-советской войны;
- Б) проведение I Всебелорусского съезда;
- В) принятие новой экономической политики на X съезде РКП(б);
- Г) первое укрупнение БССР.

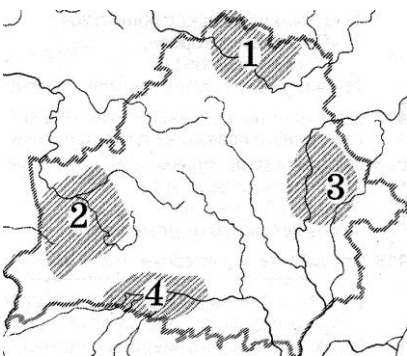
ОТВЕТ: Б–А–В–Г

15. Выполните задания по карте:

А) Запишите название упомянутого в задании населенного пункта и цифру, под которой данный населенный пункт указан на карте:

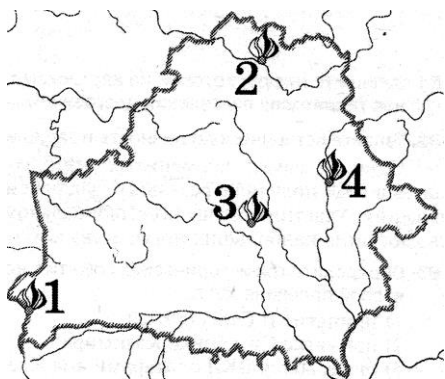


1. Белорусский город, в котором находился один из трёх монетных дворов ВКЛ. Брест(город)...8.....(№ на карте)...
2. Город, в котором прошёл первый съезд белорусских национальных организаций, в результате которого был создан БНК. Минск(город)...5.....(№ на карте)...
3. Город, в котором возник первый на территории Беларуси исторический музей. Логойск (город).....4...(№ на карте)...



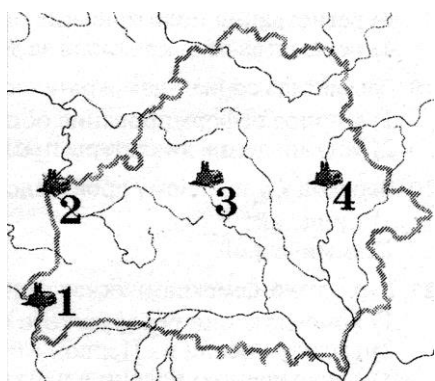
Б) Территория, на которой действовал созданный в первые дни Великой Отечественной войны партизанский отряд под командованием В. Коржа, обозначена на картосхеме цифрой:

- 1) 1; 2) 2; 3) 3; 4) 4.



В) Город, в котором 30 июля 1943 г. подпольщики совершили одну из самых крупных диверсий Второй мировой войны на железной дороге, обозначен на картосхеме цифрой:

- 1) 1; 2) 2; 3) 3; 4) 4.



Г) Город, где в БССР было построено предприятие по производству телевизоров, обозначен на картосхеме цифрой:

- 1) 1; 2) 2; 3) 3; 4) 4.

16. Внимательно прочитайте фрагмент документа и ответьте на вопросы:

«...Я убеждён, что если бы со времени присоединения к России забранных польских земель была из них образована одна провинция, сохранено имя Литвы и оставлены её давние права и если бы из неё был создан отдельный край со своим руководством... то тогда иностранное влияние проникло бы туда с трудностью....».

А) Кто является автором этого документа? (№ рисунка), к кому он обращается? (№ рисунка) Подпишите портреты этих людей.

№1	№2
М. Огинский	Александр I

Б) Что предлагает автор документа?..... Возрождение Великого княжества Литовского на правах автономии в составе Российской империи

В) О каком «...иностранном влиянии...» идёт речь? ... О «профранцузских» настроениях части шляхты, которая надеялась на восстановление Речи Посполитой Наполеоном.....

Г) В каком году создан документ?1811 г

17. Заполните пропуски в тексте:

Неспособность Временного правительства решать задачи демократической революции, непоследовательная политика правящих партий привела их к политическому банкротству. В этой ситуации в ночь с **24** на **25** октября 1917 г. в Петрограде победило вооруженное восстание рабочих и солдат. Начал работу **II** (номер) Всероссийский съезд Советов, в котором в числе прочих участвовал 51 делегат от Беларуси и Западного фронта. **26** октября 1917 г. Съезд объявил о свержении Временного правительства и переходе власти в руки Советов, принял декреты о мире и земле, сформировал рабоче-крестьянское правительство - **Совет Народных Комиссаров** во главе с **В.И. Лениным**. Получив весть о победе вооруженного восстания в Петрограде, исполком Минского Совета издал приказ № **1**, в котором объявил о переходе в городе власти в руки Советов рабочих и солдатских депутатов. **27** октября 1917 г. был создан ВРК (**Военно-революционный комитет**) Западного фронта (**К. Ландер** - председатель). В этот же день бундовцы, правые эсеры и меньшевики создали в Минске в свой орган - «Комитет **спасения революции**» во главе с меньшевиком **Т. Колотухиным**. Комитет не признал советской власти и выступил за сохранение Временного правительства, необходимость выборов в **Учредительное** собрание и его созыв.

18. Внимательно прочтите два отрывка из документов и ответьте на вопросы:

«...Разрушения Минска были потрясающими. Всюду видны были одни коробки и пепелища. Расчищены только проезды...» (архитектор Г.А. Парсаданов, август 1945г. сразу после демобилизации – участник разработки генерального плана восстановления и развития городов Минск, Могилев)

«...Реализация генерального плана и началась с восстановления сгоревших коробок зданий. Однако отстраивалось не все подряд, а только те здания, которые вообще поддавались восстановлению и не мешали в дальнейшем реконструкции города. Эта задача решена была в первую очередь. Генеральный план предусматривал реконструкцию исторически сложившейся планировки города» (архитектор А.А. Воинов, член-корр. НАН БССР, академик Академии строительства и архитектуры СССР, член-корр. Академии архитектуры СССР, проф.).

А) Кто непосредственно участвовал в восстановлении послевоенного Минска?

..... Жители города, военнопленные немцы

Б) Какие планы будущего столицы существовали, кроме восстановления?

..... Перенос столицы в Могилёв или строительство нового города в нескольких километрах от руин старого, разрушенного

.....
.....

В). Назовите финансовые источники восстановления хозяйства БССР.
денежные средства из общесоюзного бюджета, помощь других советских республик, репарации.....

Г). Назовите два крупнейших машиностроительных предприятия Минска, построенных в годы четвёртой пятилетки.

Минский автомобильный завод (МАЗ) и Минский тракторный завод (МТЗ)

.....

19. Исторические личности (подпишите фамилии над портретами):

А) Л. Доватор	Б) Е.Мазаник	В) М.Шмырев	Г) В.Корж
			
Д) К.Мазуров	Е) А.Громько	Ж) В.Короткевич	З) В. Мулявин
			

20. Термины и определения (впишите термин или дайте определение):

	Термин	Определение
1	Армия Крайова	польские военные формирования, сражавшиеся на территории Западной Беларуси за освобождение Польши и восстановление ее в границах до сентября 1939 г
2	Индустриализация	процесс создания крупного машинного производства в промышленности и других отраслях народного хозяйства.
3	Осадники	бывшие офицеры польской армии, которым за заслуги в польско-советской войне 1919 – 1920 гг. польские власти раздавали участки западнобелорусских земель.
4	«Рельсовая война»	скоординированные операции советских партизан и подпольщиков по массовому разрушению железнодорожных коммуникаций (рельсов, мостов, станций, эшелонов) в тылу врага.

5	Коренизация	одно из основных направлений политики белорусизации, предусматривающее повышение роли лиц коренной национальности в общественно-политической жизни республики, выдвижение кадров из коренного населения на партийную, советскую, хозяйственную и общественную работу.
6	Эвакуация	целенаправленный вывоз населения, оборудования промышленных и сельскохозяйственных предприятий, продовольствия, имущества, материальных и культурных ценностей из мест, которым угрожает оккупация.
7	Волонтаризм	деятельность, которая осуществляется без учета объективных законов общественного развития на основе субъективных желаний и произвольных решений
8	Научно-техническая революция	коренные изменения производства, которые происходят в результате преобразования науки в непосредственную производительную силу, внедрения научных достижений в производство.