

«УТВЕРЖДЕНО»

Первый заместитель начальника
главного управления по образованию
Брестского облисполкома

А.Ф.Жук

2018 г.

« 17 »



Республиканская олимпиада по истории 2018/2019 учебный год
II этап
11 класс

Уважаемые учащиеся!

Продолжительность второго этапа олимпиады - 240 минут. Будьте предельно внимательны при выполнении заданий и размещении вариантов своих ответов. Если Вы ошиблись – аккуратно зачеркните ошибочный вариант ответа и рядом отчетливо поставьте тот, который Вы считаете верным.

Ответы размещаются на листе заданий (при необходимости можно использовать обратную (чистую) сторону листа)!

Желаем Вам удачи!

ИСТОРИЯ ВСЕМИРНАЯ.

Выберите правильный ответ.

1. Морское сражение у острова Саламин состоялось в:

- а) 490г. до н.э.; б) 480г. до н.э.; в) 449г. до н.э.; г) 776г. до н.э.

2. Император Константин Великий разрешил свободно и открыто проповедовать христианство:

- а) в 306г.; б) в 330г.; в) в 313г.; г) в 410г.

3. Нантский эдикт издан Генрихом IV в:

- а) 1643г.; б) 1598г.; в) 1511г.; г) 1698г.

4. Вторая республика во Франции была провозглашена:

- а) 1 марта 1847г.; б) 25 февраля 1848г.; в) 4 июля 1830г.; г) 5 августа 1843г.

5. Прочитайте отрывок из исторического документа и ответьте на вопрос к нему: «Пышные фразы о «восстановлении общественного порядка», «обновление европейской политической системы», «прочном мире, основанном на справедливом распределении сил» и т.д., произносились для того, чтобы внушить спокойствие народам... но настоящей целью конгресса являлся раздел между победителями отнятой у побежденного добычи».

Какую войну или серию войн завершил конгресс, о котором писал австрийский дипломат Ф. Гентц:

- 1) Первая мировая война; 3) Крымская война;
2) Англо-бурская война; 4) Наполеоновские войны.

6. Прочитайте отрывок из исторического документа и ответьте на вопрос к нему: «Вся земля... обрабатывается жителями совместно. Необходимо, чтобы все жители... в равной степени и совместно наслаждались великим счастьем, дарованным небесным отцом, Господом Богом: имея поля, обрабатывали их сообща, имея пищу, вкушали бы ее вместе, чтобы не было неравенства, чтобы все были сыты и одеты». Для какого восстания в странах Востока характерна подобная идеология?

- 1) восстание ихэтуаней; 3) восстание сипаев;
2) восстание тайпинов; 4) революция Мэйдзи.


7. Прочитайте отрывок из исторического источника и определите, о какой войне (восстании) идет речь: «Есть вещи, о которых я писать не должен и которые не могут быть напечатаны в Англии, иначе может показаться, что наша западная цивилизация - всего лишь тонкий покров, скрывающий дикарей. Подлинная правда еще никогда не была написана ни об одной войне, и эта война также не будет исключением».

- 1) Англо-китайская опиумная война; 3) восстание ихэтуаней;
2) Англо-франко-китайская опиумная война; 4) восстание тайпинов.



8. Укажите событие, связанное с изображенным на снимке советским государственным деятелем:

- А) разработка Конституции РСФСР;
- Б) образование СССР;
- В) переход к новой экономической политике;
- Г) XVII съезд ВКП(б).



9. Укажите событие, связанное с изображенным на снимке государственным деятелем:

- А) Исламская революция в Иране;
- Б) национализация Суэцкого канала;
- В) принятие концепции «конгрессистского социализма»;
- Г) создание Движения неприсоединения;



10. Укажите событие, связанное с изображенным на снимке государственным деятелем:

- 1) проведение политики «хустисиализма»;
- 2) военный конфликт Великобритании и Аргентины из-за Фолклендских (Мальвинских) островов;
- 3) проведение радикальных реформ в Чили;
- 4) национализация Суэцкого канала

Определите несколько правильных ответов.

11. Кто из нижеперечисленных политиков были «отцами-основателями» Версальской системы:

- а) П.Гинденбург;
- б) Ж.Клемансо;
- в) В.Вильсон;
- г) Р.Макдональд;
- д) Д.Ллойд Джордж;
- е) У.Черчилль;
- ж) Г. Чичерин.

12. В каких из названных событий принимали непосредственное участие США:

- а) война во Вьетнаме во второй половине 60—х гг. XX в.;
- б) создание Организации Варшавского Договора;
- в) образование «общего рынка»;
- г) принятие четырехсторонних соглашений по Афганистану (1988 г.);
- д) Карибский кризис.

Установите последовательность исторических событий или явлений:

13. События эпохи объединения Италии:

А	Освобождение Венеции от австрийского гнёта;
Б	Превращение Рима в столицу Итальянского королевства;
В	Разгром объединенными войсками Пьемонта и Франции войск Австрийской империи;
Г	Создание единого Итальянского королевства;
Д	Захват Рима итальянскими войсками.

ОТВЕТ: 1 ____; 2 ____; 3 ____; 4 ____; 5 ____.

14. События истории стран славянского мира:

1	Болгария объявила себя царством и провозгласила независимость от Турции.
2	Провозглашение полной независимости Сербии.
3	Создание Балканского союза при содействии российской дипломатии.
4	Проведение II съезда РСДРП и принятие программы партии.
5	Создание Г.В. Плехановым группы “Освобождение труда” в Швейцарии.
6	Издание царского Манифеста в России о роспуске II Государственной думы и одновременно с этим - новый избирательный закон.

ОТВЕТ: 1. — 2. — 3. — 4. — 5. — 6. —

Установите соответствие:

15. Хронологические рамки и название войны:

1	Ливонская война	А	1701 — 1714 гг.
2	Семилетняя война	Б	1558 — 1583 гг.
3	Северная война	В	1775 — 1783 гг.
4	Война за испанское наследство	Г	1618 — 1648 гг.
5	Война за независимость английских колоний в Северной Америке	Д	1756 — 1763 гг.
6	Тридцатилетняя война	Е	1700 — 1721 гг.

ОТВЕТ: 1 ____, 2 ____, 3 ____, 4 ____, 5 ____, 6 __

16. Определите принадлежность колоний к метрополиям в Латинской Америке в начале XIX в.:

А	Остров Гваделупа	1	Великобритания
Б	Багамские острова	2	Испания
В	Бразилия	3	Франция
Г	Остров Пуэрто-Рико	4	Португалия

		5	Нидерланды
--	--	---	------------

ОТВЕТ: А—___; Б—___; В—___; Г—___.

17. Наступательные операции Красной Армии на заключительном этапе ВОВ:

А	Восточно-Прусская операция	1	Январь-февраль 1945 г.
Б	Висло-Одерская операция	2	Январь-апрель 1945 г.
В	Восточно-Померанская операция	3	Август-сентябрь 1944 г.
Г	Львовско-Сандомирская операция	4	Февраль-апрель 1945 г.
Д	Яско-Кишневская операция	5	Июль-август 1944 г.

ОТВЕТ: А—___; Б—___; В—___; Г—___; Д—___.

18. Названия государств (городов) на разных этапах их существования:

А	Бирма	1	Формоза
Б	Цейлон	2	Мьянма
В	Гонконг	3	Аомынь
Г	Конго	4	Камбоджа
Д	Тайвань	5	Сянган
Е	Макао	6	Шри-Ланка
Ж	Клайпеда	7	Мемель
З	Абиссиния	8	Эфиопия
И	Кампучия	9	Заир
К	Родезия	10	Зимбабве

ОТВЕТ: А—___; Б—___; В—___; Г—___; Д—___; Е—___; Ж—___; З—___; И—___; К—___.

19. Определите событие, которое произошло **раньше**:

А	1	Завершение англо-бурской войны	или	2	Подавление восстания ихэтуаней в Китае
Б	1	Присоединение к России Хивинского ханства и Туркмении	или	2	Присоединение к России Кокандского ханства и Бухарского эмирата
В	1	Обнародование Манифеста Николая II, «даровавшего населению» демократические свободы и представительное правление - Государственную думу	или	2	Подписание Портсмутского мирного договора между Россией и Японией
Г	1	Завершение восстания тайпинов в Китае	или	2	Подписание А. Линкольном прокламации об освобождении негров рабов без выкупа
Д	1	Первое сражение на р. Марне между англо-французскими и немецкими армиями	или	2	Вступление Турции в Первую мировую войну на стороне Германии
Е	1	Начало “Сто дней реформ” в Китае	или	2	Проведение I съезда РСДРП в Минске

20. Заполните пропуски в таблице: «Распространение Реформации в Европе»:

Критерии	Германия	Швейцария	Англия
Основатели реформационного вероучения	Мартин Лютер	<i>Жан Кальвин</i>	Генрих VIII
Название направления христианского вероучения			
Начало реформации		1536 г.	
Особенность вероучения			Сохранение католических догматов и обрядов, при подчиненность и английскому королю
Назовите страны (выберите из предложенного ниже списка), в которых получило распространение данное вероучение			Англия

Европейские страны, в которых получил распространение протестантизм в XVI–XVII вв.: **Швеция, Испания, Нидерланды, Россия, Дания, Шотландия.**

21. Объясните цель следующих военных операций:

А) «Аларих» –

.....

Б) «Вахта на Рейне» –

.....

В) «Зимняя гроза» –

.....

22. Внимательно посмотрите на карты и выполните задания:

1) Территория, на которой после подписания Компьенского перемирия 11.11.1918 г. оставались немецкие войска, обозначена на карте цифрой: 1) 1; 2) 2; 3) 3; 4) 4.	2) По решениям Парижской конференции Саарский угольный бассейн переходил в собственность государства, территория которого обозначена на карте цифрой: 1) 1; 2) 2; 3) 3; 4) 4.
--	--

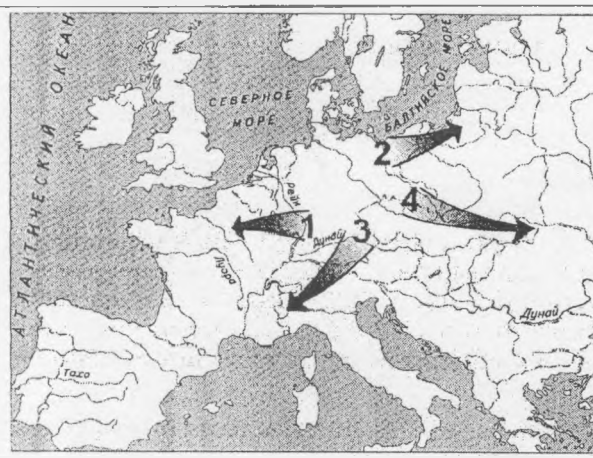


3) План нападения Германии на страны, территории которых заштрихованы на карте, носил кодовое название:

« »

4) Направление наступления германских войск в декабре 1944 в Арденнах обозначено на карте цифрой:

1) 1; 2) 2; 3) 3; 4) 4.

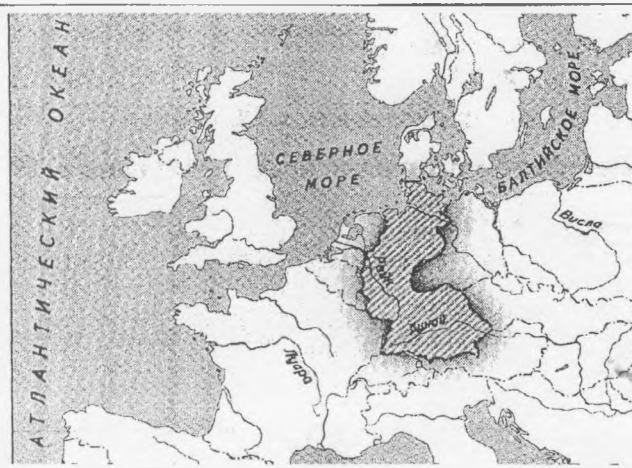


5) Президентом государства, территория которого заштрихована на карте, при котором произошли массовые выступления студентов и служащих («красный май»), был:

1) Ш. де Голль; 2) Ф. Миттеран;
3) Ж.Ширак; 4) Н. Саркози

6) Канцлером государства, территория которого заштрихована на карте, при котором страна добилась принятия в НАТО, был:

1) Г. Шрёдер; 2) Г. Коль;
3) К. Аденауэр; 4) В. Брандт





25. Внимательно прочитайте исторический источник и ответьте на вопросы:

Оба правительства согласны, что разногласия между Германией и Российской Советской Республикой по вопросам, возникшим за время существования этих государств в войне, регулируются на следующих основаниях:

а) Германское государство и РСФСР взаимно отказываются от возмещения их военных расходов, равно как и от возмещения военных убытков, иначе говоря тех убытков, которые были причинены им и их гражданам в районах военных действий, вследствие военных мероприятий, включая и предпринятые на территории противной стороны реквизиции. Равным образом обе стороны отказываются от возмещения невоенных убытков, причиненных гражданам одной стороны посредством так называемых исключительных военных законов и насильственных

26. Внимательно рассмотрите карикатуру и ответьте на вопросы:



1) Кто изображен сидящим в кресле?

.....

2) В какой стране была нарисована эта карикатура?

.....

3) После каких событий появилась эта карикатура?

.....

4) Какое крылатое выражение иллюстрирует карикатура? Что оно означает?

.....

.....

.....

.....

.....

.....

.....

.....

.....

.....

.....

.....

ИСТОРИЯ БЕЛАРУСИ.

Выберите правильный ответ.

1. Животноводство первоначально появилось на:

- а) юге Беларуси;
- б) западе Беларуси;
- в) севере Беларуси;
- г) востоке Беларуси.

2. Наиболее полный летописный свод ВКЛ называется:

- а) «Повесть временных лет»;
- б) «Ипатьевская летопись»;
- в) «Хроника польская, литовская, жемайтская и всяя Руси»;
- г) «Хроника Быховца».

3. Определите пункт, который не относится к реформам Антония Тизенгауза:

- а) создание “коммунальных магазинов”;
- б) восстановление фольварков;
- в) улучшение технологии обработки земли;
- г) развитие фермерства;
- д) развитие мануфактур.

4. Определите пункт, который не относится к условиям Люблинской унии:

- а) образование единого государства с общим монархом;
- б) ВКЛ и Польша сохраняли собственные войска и самостоятельность во внешней политике;
- в) отдельное избрание великого князя литовского запрещалось;
- г) создание единого сейма;
- д) введение единой денежной системы.

5. Среди перечисленных губерний определите ту, крестьяне которой по реформе 1861 г. не могли выкупать свой дореформенный надел:

- а) Виленская; б) Витебская; в) Гродненская; г) Минская.

6. Определите правильное утверждение:

- 1) в 1920-е гг. на руководящие должности в БССР назначаются в основном белорусы;
- 2) в 1920—1930-е гг. в БССР устанавливается демократическая избирательная система;
- 3) до начала 1930-х гг. в БССР была сформирована и укреплена многопартийная система управления;
- 4) в 1930-е гг. роль Советов разных уровней и общественных организаций в БССР возрастает.

7. В соответствии с реформой общеобразовательной школы 1959 г.:

- 1) вводилось всеобщее среднее образование;
- 2) вводилось 7-летнее обязательное образование;
- 3) среднее образование молодежь получала после окончания 10 классов;

4) в школах вводилось изучение основ промышленного и сельскохозяйственного производства.

8. Укажите причину кризиса промышленности Беларуси в первой половине 1990-х гг.:

- 1) сохранение единого экономического пространства;
- 2) падение уровня показателей промышленного производства и сельского хозяйства;
- 3) диктат общесоюзных министерств;
- 4) повышение доходов населения и концентрация значительных денежных средств в руках вкладчиков Сберегательного банка СССР.

Установите хронологическую последовательность:

9. Событий XV-XVI вв.:

- А. Битва под Клецком;
- Б. Заговор Олельковичей против Казимира IV;
- В. Битва на р. Ведроше;
- Г. Издание Судебника Казимира IV;
- Д. Мятеж Михаила Глинского.

ОТВЕТ:

10. Событий второй половины XVIII в.:

- А. Принята Конституция Речи Посполитой;
- Б. Восстание под предводительством Т. Костюшко;
- В. Создание Скарбовой комиссии ВКЛ;
- Г. Образование антидиссидентской Барской конфедерации;
- Д. Второй раздел Речи Посполитой.

ОТВЕТ:

11. Событий Февральской революции:

- А. Прошёл II съезд белорусских национальных партий и организаций;
- Б. Корниловский мятеж;
- В. Николай II подписал акт отречения от престола;
- Г. Россия была провозглашена демократической республикой;
- Д. Прошёл I съезд белорусских национальных партий и организаций.

ОТВЕТ:

Установите соответствие:

12. Битву с именем князя, при котором эта битва произошла:

1	Всеслав Чародей	А	Битва на реке Ворскле
2	Ольгерд	Б	Битва на реке Пещань
3	Владимир Святославич Ясное Солнышко	В	Куликовская битва
4	Витовт	Г	Битва на реке Стреве
5	Ягайло	Д	Битва на Немиге

ОТВЕТ: 1—__, 2—__, 3—__, 4—__, 5—__.

13. Соотнесите цитату с названием документа, из которого она взята.

В дополнительной строке укажите год издания данного документа.

			Дата
1	Кревская уния	А	«Каждый рыцарь или боярин, который примет католическую веру, и его преемники, законные наследники, имеют и будут иметь полную и всякую возможность владеть, держать, пользоваться, продавать, отчуждать, обменивать, давать, дарить по своей доброй воле... замки, волости, деревни и дома и всё, чем владел бы по отцовскому наследству...»
2	Привилей Владислава II	Б	«Также дозволяем, чтобы княжата, рыцари, шляхтичи, бояре добровольно имели бы возможность выехать из наших земель княжества Великого, для лучшего счастья приобретения, либо поступков рыцарских, в любые земли, страны, только исключая страны неприятельские...»
3	Привилей Казимира IV	В	«Потому все другие сословия рыцарского и шляхетского, как литовского, так и русского народа, только бы были веры христианской... на должности дворные и земские, не только подданные костёлу Римскому, с этого времени выбраны и назначены быть могут, но одинаково и равно все рыцарского сословия из народа шляхетского люди веры христианской, как Литва, так и Русь, каждый согласно достижениям и заслугам своим, от нас, великого князя, на посты высокие служебные и на другие посты по воле нашей могут назначаться...»
4	Привилей Сигизмунда Августа	Г	«...Наконец, тот же великий князь Ягайло обещает земли свои литовские и русские на вечные времена к Короне Королевства Польского присоединить».

ОТВЕТ: 1 _____, 2 _____, 3 _____, 4 _____.

14. Идею с автором или наиболее активным ее приверженцем:

1	Вацлав Ластовский	А	Первым, среди белорусских политических лидеров, высказал идею полной независимости Беларуси в её этнографических границах.
2	Михаил Коялович	Б	В Государственной думе отстаивал идею автономии Белорусского края в составе Российской империи.
3	Роман Скирмунт	В	Автор идеи создания союза независимых государств - Соединённых штатов Беларуси, Литвы, Латвии и Украины.
4	Антон Луцкевич	Г	Сторонник западноруссизма. Считал, что главное направление развития белорусского края - возвращение его от польского католицизма к русскому православию.

ОТВЕТ: 1- ____, 2- ____, 3- ____, 4- ____

15. Работа с иллюстрациями:

А. Назовите событие, в честь которого была выпущена эта медаль	Б. Назовите событие, в честь которого была выпущена эта медаль
	
Ответ	Ответ

16. Дополните информацию:

1. Радимичи были подчинены Киеву князем.....(имя).
2. Впервые попытка провозгласить Витовта королём была осуществлена в 1398 г. на.....съезде.
3.— это плата невесты-крестьянки, которая выходила замуж в чужую волость.
4. Внутренние противоречия привели в 1879 г. к расколу «Земли и воли» на две организации: «.....» и «.....».
5. (полное название) - первая белорусская национальная политическая партия.

17. Является ли правильным утверждение (обведите правильный ответ):

1. “Устава на волоки” завершила процесс закрепощения крестьян. ДА / НЕТ
2. Швеция была протестантским государством, поэтому шведский принц и король Речи Посполитой Сигизмунд III Ваза поддерживал протестантов. ДА / НЕТ
3. Комитет по делам западных губерний - совещательный орган при императоре Александре I. ДА / НЕТ
4. Михаил Волович выступал за освобождение крестьян от крепостного гнёта и провозглашение Беларуси и Литвы демократической республикой. ДА / НЕТ
5. По реформе 1861 г. крестьяне не могли распоряжаться земельными наделами до их выкупа. ДА / НЕТ




18. Выполните задания по документу:

«... На своих крепких плечах русский рабочий класс должен вынести и вынесет дело завоевания политической свободы. Это необходимый, но лишь первый шаг к осуществлению великой исторической миссии пролетариата: создание такого общественного строя, в котором не будет места эксплуатации человека человеком. Русский пролетариат сбросит с себя ярмо самодержавия, чтобы с тем большей энергией продолжить борьбу с капитализмом и буржуазией до полной победы социализма»

Задания:

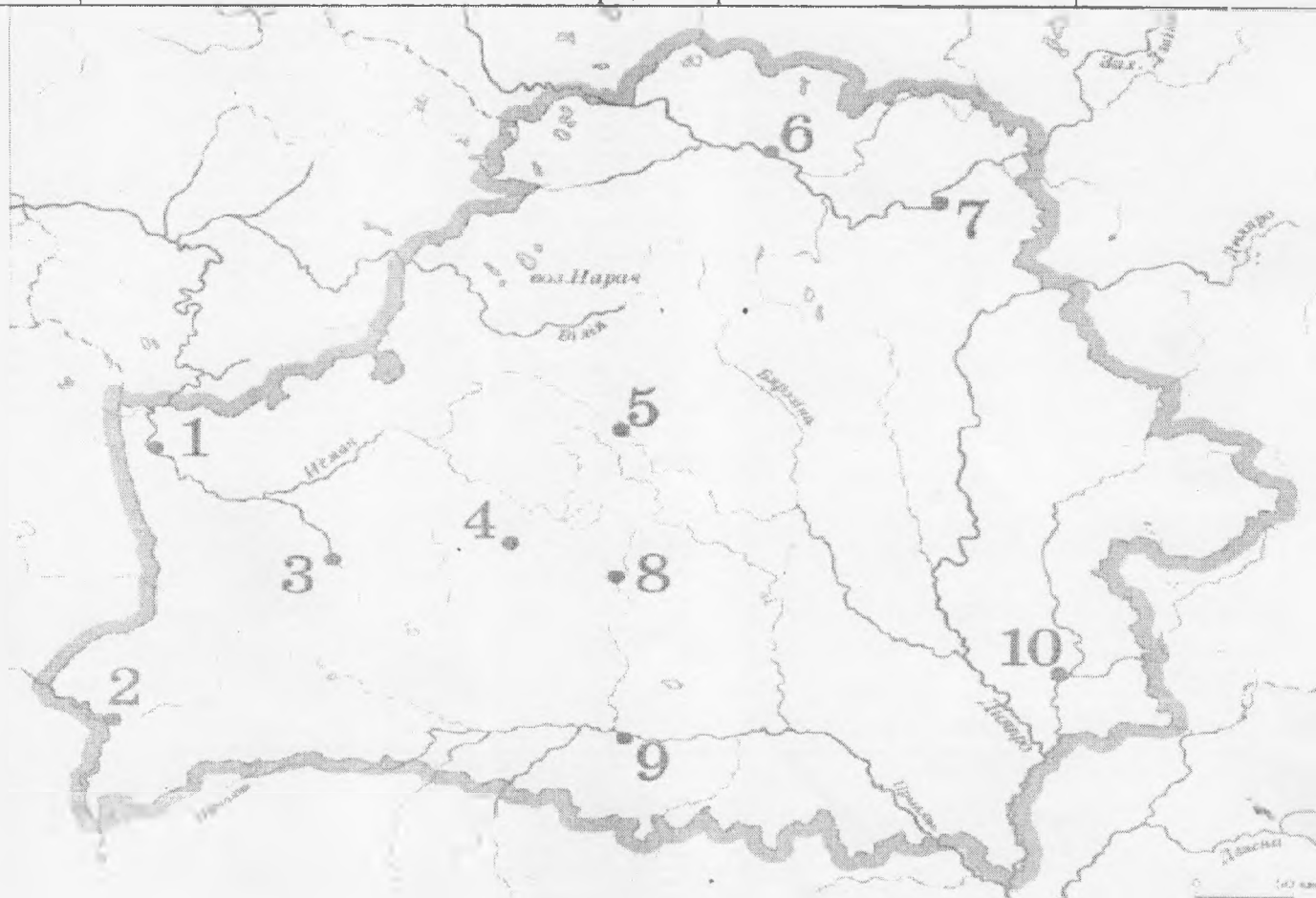
1. Запишите название партии, из политического манифеста которой был взят данный отрывок.....
2. Где (название населённого пункта) и когда (год) было провозглашено о создании данной партии?
3. Какой идеологии придерживались представители данной партии?
4. Какую окончательную цель определяла политическая программа данной партии?

19. Где находится представленный на фотографии памятник архитектуры:

1	2	3
		

20. Внимательно изучите задания. При ответе укажите цифру, которая соответствует городу. Ответы внесите в таблицу.

№	Вопрос	Ответ
1	Этот город во время правления князя Ольгерда был центром православной митрополии.	
2	Город, центр княжества, которое впервые в летописи упоминается в 1128 г., когда князем здесь был Всеволод.	
3	В 1562 г. около этого города собрался сейм, который потребовал “совершить совместный сейм с поляками, чтобы вместе короля выбирать, иметь общую защиту, совместно соймиковать и одинаковое право употреблять”.	
4	Город, в котором в 1408 г. состоялась тайная встреча Витовта и Ягайлы, где было принято решение о начале войны с Тевтонским орденом.	
5	Город, который в годы Ливонской войны находился под контролем Московского государства с 1563 г. по 1579 г.	
6	Город, где в 1553 г. была основана первая кальвинистская община.	
7	Город, центр экономики, где старостой был инициатор аграрной реформы 1765 г. Антоний Тизенгауз.	
8	Город, в котором первое упоминание в письменных источниках о существовании цехов относится к 1552 г. Местное название цеха в этом городе - братство.	




21. Ознакомьтесь с отрывком и ответьте на вопросы:

...Витаем тя, православный царю, праведное солнце,
Здавна бо вем прагнули тебе души наши и сердце.
Витаем тя, царю, от востока к нам пришедшаго,
Белорусский же от нужде народ весь освободшаго...

1) Кто, когда, в связи с какими историческими событиями написал произведение, из которого взят данный отрывок?

2) Кому посвящено данное произведение?

22. Подпишите портреты (справа от номера) известных в истории личностей:

1	2	3
		
4	5	6
		

23. Внимательно рассмотрите карту и ответьте на вопросы:



1) В какой период времени в БССР существовало подобное административно-территориальное деление?

2) Как называлась выделенная тёмным цветом часть областей БССР? В чем ее особенность в государственном строительстве белорусского государства в межвоенный период XX в.?

.....
.....
.....
.....
.....

3) Когда, при каких обстоятельствах и с какими территориями происходят изменения внешних границ БССР в 1919–1940-ые гг.

.....
.....
.....
.....

4) Когда и при каких условиях административно-территориальное деление БССР приняло современный вид (6 областей)? (5 балла)

.....
.....
.....
.....
.....

24. Внимательно прочтите отрывки из документа и ответьте на вопросы:

«...Я клянуся за спаленыя гарады і вёскі, за кроў і смерць нашых жонак і дзяцей, бацькоў і мацяры, за гвалты і здекі над маім народам жорстка помсціць ворагу. ...»

...Я клянуся ўсімі шляхамі і сродкамі актыўна дапамагаць Чырвонай Арміі паўсюдна знішчаць фашысцкіх катаў і тым самым садзейнічаць найхутчэйшаму і канчатковаму разгрому крывавага фашызму...

...Я клянуся, што хутчэй загіну ў жорсткім баі з ворагам, чым аддам сябе, сваю сям'ю і беларускі народ у рабства крываваму фашызму. ...»

1. Как называется этот документ

2. В каком году появился этот документ

3. Чем было вызвано появление этого документа

.....
.....

4. Какие задачи выполняли люди, дававшие эту клятву.

.....

.....

.....

.....

.....

25. Посмотрите внимательно на карту и ответьте на вопросы.



- 1) Что отражает данная карта
- 2) Через какой город был проложен первый такой путь на территории современной Беларуси
- 3) В каком году это произошло
- 4) Как называлась эта дорога
- 5) Как повлияло строительство таких дорог на развитие экономики

.....

.....

.....

6) Как повлияло строительство таких дорог на внешний вид городов Беларуси

.....

.....

.....

.....

26. Прочитайте отрывок из документа и ответьте на вопросы:

«Они встали. И даже среди нас, поляков, мало кто не плакал или не был до глубины души тронут жалостью, потому что многие из панов-рады обливались слезами. 1 июля, подавленный Волович дрожащим голосом читал текст присяги, а другие, заходясь от плача, повторяли ее за ним».

- А) Какое событие описывает польский хронист?
- Б) Что вызвало такие чувства панов-рады?
- В) Какой пост занимал А. Волович в этот период?
- Г) В каком году происходят описываемые события?
- Д) Какому королю присягают паны-рада?
- Е) Какой известный польский художник написал картину, посвященную этому событию?



ОТВЕТ:

- А)
- Б)
- В)
- Г)
- Д)
- Е)