

Date :

Prénom :

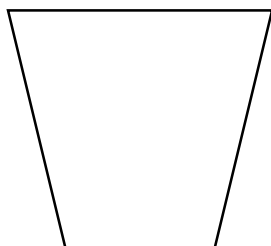
Evaluation de Sciences : Les mélanges

Connaissances et compétences associées	A	AR	PA	NA
Je connais les types de mélanges et leurs caractéristiques.				
Je connais les procédés permettant de séparer des mélanges.				
Mettre en œuvre des observations et des expériences pour caractériser un échantillon de matière.				

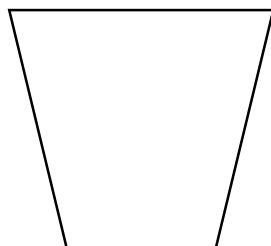

A= acquis - **AR**= à renforcer - **PA**= partiellement acquis - **NA**= non acquis

1. Dessine ce que l'on obtient quand on mélange les éléments suivants :

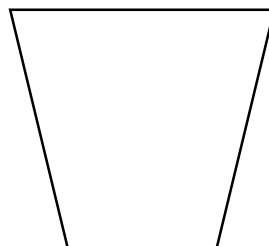

Eau + sucre



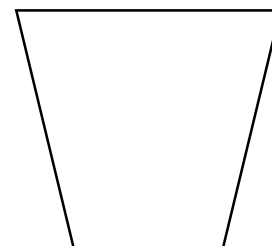
huile + eau



eau + sirop



eau + sable



2. Ecris ensuite si la solution est homogène ou hétérogène :

.....

.....

.....

.....

3. Entoure la bonne réponse :

Quel mélange contient 2 éléments miscibles ?

Eau + sucre

huile + eau

eau + sirop

eau + sable

Quel mélange contient 1 élément soluble dans l'eau ?

Eau + sucre

huile + eau

eau + sirop

eau + sable

Quel mélange contient 2 éléments non miscibles ?

Eau + sucre

huile + eau

eau + sirop

eau + sable

