

CONTINUITÉ PÉDAGOGIQUE

Comment aider son enfant à la maison ?

Parents,

Dans le contexte sanitaire actuel, la continuité pédagogique permet de maintenir un lien entre votre enfant et son enseignant afin qu'il poursuive ses apprentissages. Voici quelques conseils :

📌 Établir un contact régulier avec l'enseignant, par courrier électronique ou par téléphone



Privilégier l'appel téléphonique pour établir un contact vivant direct si possible avec l'enfant.



Un contact hebdomadaire (deux fois par semaine) avec vous doit permettre à l'enseignant de répondre à vos questions et de vous proposer des activités personnalisées.

📌 Organiser le temps de l'enfant



Ritualiser des temps d'activités d'apprentissage courts (20 minutes), le matin et l'après-midi.



Utiliser un calendrier et un planning avec l'enfant pour lui permettre d'identifier la répétition des moments vécus et d'anticiper ce qui va arriver.



Aménager des moments pour découvrir, jouer, bouger (20 minutes, deux fois par jour), mais aussi apprendre seul, se reposer, rêver, voire s'ennuyer.



L'ennui permet à l'enfant de construire son imaginaire. Il est important de lui laisser du temps pour cela, en limitant le temps d'écran.

📌 Organiser ses activités et son espace



Choisir un espace adapté à la réalisation des activités d'apprentissage, sans tentation de jeux, de télévision ou autres écrans.



Proposer des activités pour développer ses capacités langagières, sa mémoire, ses capacités à résoudre des problèmes et ses capacités motrices.

📌 Utiliser des supports adaptés à son âge



Privilégier des supports habituels utilisés dans l'école et connus de l'enfant.



Proposer des outils numériques pour l'apprentissage des comptines et pour effectuer certains exercices ludiques et interactifs.



Filmer ou photographier les activités de l'enfant et les transmettre à l'enseignant par voie numérique.



Veiller à limiter le temps d'exposition aux écrans (tablettes, télévision, téléphone).

Livret d'activités

Cycle 2



Qui suis-je ?


Je suis un(e)




J'ai ans.

1	2	3	4	5	6	7	8	9	10

J'habite :




Mes animaux :




entoure


en vert quand tu aimes et en rouge quand tu n'aimes pas.
(Tu peux dessiner une tête qui aime ou une tête qui n'aime pas).







entoures en vert quand tu aimes et en rouge quand tu n'aimes pas.
(Tu peux dessiner une tête qui aime ou une tête qui n'aime pas).







Prénom : _____

Date : _____



Coloriage magique

Mains nombres 1 à 5

Colorie en respectant le code couleur.



Rouge



Orange




Noir




Bleu clair




Vert clair



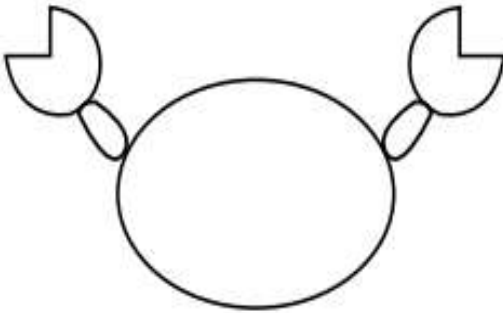


Les 7 différences




DESSINE-MOI UN CRABE


1



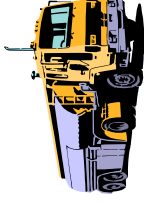













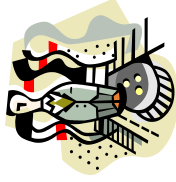











2



3



<p>a avion</p> <p>A a</p> 	<p>b bébé</p> <p>B b</p> 	<p>c camion</p> <p>C c</p> 	<p>d domino</p> <p>D d</p> 	<p>e escargot</p> <p>E e</p> 	<p>f fusée</p> <p>F f</p> 	<p>g girafe</p> <p>G g</p> 	<p>h hibou</p> <p>H h</p> 		
<p>i igloo</p> <p>I i</p> 	<p>j jupe</p> <p>J j</p> 	<p>k kiwi</p> <p>K k</p> 	<p>l lune</p> <p>L l</p> 	<p>m maman</p> <p>M m</p> 	<p>n nuage</p> <p>N n</p> 	<p>o orange</p> <p>O o</p> 	<p>p papa</p> <p>P p</p> 		
<p>q quille</p> <p>Q q</p> 	<p>r renard</p> <p>R r</p> 	<p>s serpent</p> <p>S s</p> 	<p>t tigre</p> <p>T t</p> 	<p>u usine</p> <p>U u</p> 	<p>v vache</p> <p>V v</p> 	<p>w wagon</p> <p>W w</p> 	<p>x xylophone</p> <p>X x</p> 	<p>y yaourt</p> <p>Y y</p> 	<p>z zèbre</p> <p>Z z</p> 

Je retrouve les noms
dans la grille de
mots mêlés.



BALEINE



OURSIN



CRABE



PIEUVRE










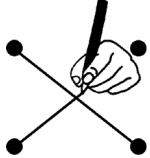


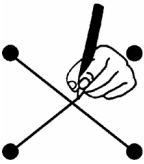



MEDUSE








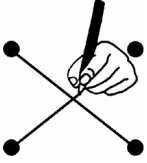

POISSON


W	C	V	P	O	I	S	S	O	N
P	I	C	R	A	B	E	U	T	Y
M	S	L	B	V	Z	S	F	G	T
X	N	Z	O	Q	J	K	E	I	L
M	E	D	U	S	E	Y	H	T	F
U	H	P	I	E	U	V	R	E	J
Y	D	Q	F	Y	A	Z	O	K	U
F	P	D	O	U	R	S	I	N	N
V	K	H	R	G	P	T	H	M	B
N	B	A	L	E	I	N	E	O	C

► Relie les mêmes étiquettes :

	•	•	
	•	•	
	•	•	
	•	•	
	•	•	
	•	•	
	•	•	

► Relie l'étiquette au mot :

	•	•	ENTOURE
	•	•	REPASSE
	•	•	COLORIE
	•	•	ATTENTION
	•	•	RELIE
	•	•	DÉCOUPE
	•	•	BARRE



Mémo - Math

1 2 3 4 5 6 7 8 9 10 11 12 13 14 15 16 17 18 19 20 21 22 23 24 25 26 27 28 29 30

1	2	3	4	5	6	7	8	9	10
un	deux	trois	quatre	cinq	six	sept	huit	neuf	dix

Je mange toujours le plus grand !

41 24

Les super-héros du 10



0 + 10	10 + 0
1 + 9	9 + 1
2 + 8	8 + 2
3 + 7	7 + 3
4 + 6	6 + 4
5 + 5	

gauche droite






0 1 2 3 4 5 6 7 8 9

NUMERATION



► Écris le nombre correspondant dans les nuages :



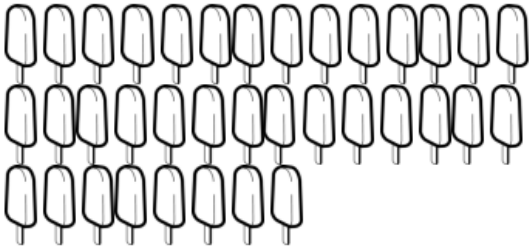




















► Écris le nombre d'objets :

► Barre les objets en trop :

12	
14	
13	XXXXXXXXXXXXXXXXXXXX

► **Fais des paquets de 10 puis complètes :**








	<table border="1" style="width: 100%; border-collapse: collapse;"> <tbody> <tr> <td style="text-align: center;"></td> <td style="text-align: center;"></td> </tr> <tr> <td style="text-align: center;">dizaines</td> <td style="text-align: center;">unités</td> </tr> <tr> <td style="text-align: center;"> </td> <td style="text-align: center;"> </td> </tr> <tr> <td colspan="2" style="text-align: center;">.....</td> </tr> </tbody> </table>			dizaines	unités			
									
dizaines	unités								
.....									
	<table border="1" style="width: 100%; border-collapse: collapse;"> <tbody> <tr> <td style="text-align: center;"></td> <td style="text-align: center;"></td> </tr> <tr> <td style="text-align: center;">dizaines</td> <td style="text-align: center;">unités</td> </tr> <tr> <td style="text-align: center;"> </td> <td style="text-align: center;"> </td> </tr> <tr> <td colspan="2" style="text-align: center;">.....</td> </tr> </tbody> </table>			dizaines	unités			
									
dizaines	unités								
.....									
	<table border="1" style="width: 100%; border-collapse: collapse;"> <tbody> <tr> <td style="text-align: center;"></td> <td style="text-align: center;"></td> </tr> <tr> <td style="text-align: center;">dizaines</td> <td style="text-align: center;">unités</td> </tr> <tr> <td style="text-align: center;"> </td> <td style="text-align: center;"> </td> </tr> <tr> <td colspan="2" style="text-align: center;">.....</td> </tr> </tbody> </table>			dizaines	unités			
									
dizaines	unités								
.....									

► **Écris les nombres en lettres :**















































































0		10	
1		11	
2		12	
3		13	
4		14	
5		15	
6		16	
7		20	
8		30	
9		40	

CALCULS

























► Complète :

						
6	6	6	6	6	6	6
<input type="text"/> + <input type="text"/>	<input type="text"/> + <input type="text"/>	<input type="text"/> + <input type="text"/>	<input type="text"/> + <input type="text"/>	<input type="text"/> + <input type="text"/>	<input type="text"/> + <input type="text"/>	<input type="text"/> + <input type="text"/>

► Relie s étiquettes qui ensemble font le nombre demandé :

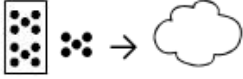
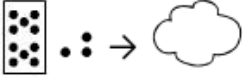
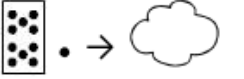
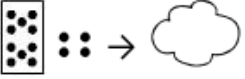

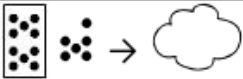

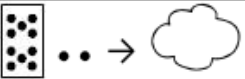
7	8	9																																						
<table border="1"> <tr><td></td><td></td></tr> <tr><td></td><td></td></tr> <tr><td></td><td></td></tr> <tr><td></td><td></td></tr> <tr><td></td><td></td></tr> <tr><td></td><td></td></tr> </table>													<table border="1"> <tr><td></td><td></td></tr> <tr><td></td><td></td></tr> <tr><td></td><td></td></tr> <tr><td></td><td></td></tr> <tr><td></td><td></td></tr> <tr><td></td><td></td></tr> <tr><td></td><td></td></tr> </table>															<table border="1"> <tr><td>6</td><td>8</td></tr> <tr><td>5</td><td>3</td></tr> <tr><td>4</td><td>5</td></tr> <tr><td>3</td><td>7</td></tr> <tr><td>2</td><td>6</td></tr> <tr><td>1</td><td>4</td></tr> </table>	6	8	5	3	4	5	3	7	2	6	1	4
																																								
																																								
																																								
																																								
																																								
																																								
																																								
																																								
																																								
																																								
																																								
																																								
																																								
6	8																																							
5	3																																							
4	5																																							
3	7																																							
2	6																																							
1	4																																							

► Relie puis complète :

10								
<table border="1"> <tr><td></td><td></td></tr> <tr><td></td><td></td></tr> <tr><td></td><td></td></tr> <tr><td></td><td></td></tr> </table>								
								
								
								
								

$10 = 0 + \underline{\quad}$	$10 = 1 + \underline{\quad}$	$10 = 2 + \underline{\quad}$
$10 = 3 + \underline{\quad}$	$10 = 4 + \underline{\quad}$	$10 = 5 + \underline{\quad}$
$10 = 6 + \underline{\quad}$	$10 = 7 + \underline{\quad}$	$10 = 8 + \underline{\quad}$
$10 = 9 + \underline{\quad}$	$10 = 10 + \underline{\quad}$	

► Complète :

			
			
$10+3 = \underline{\quad}$	$10+4 = \underline{\quad}$	$10+2 = \underline{\quad}$	$10+5 = \underline{\quad}$
$10+\underline{\quad} = 11$	$10+\underline{\quad} = 16$	$10+\underline{\quad} = 17$	$10+\underline{\quad} = 18$

► Relie les étiquettes à leur résultat :

6 9 + 9 4 14 5 + 5 8

10 1 + 1 4 + 4 18 3 + 3

2 12 6 + 6 2 + 2 7 + 7

► Pose les opérations sur ton cahier et calcule :

$14 + 24 =$

$33 + 16 =$

$26 + 3 =$

$8 + 21 =$

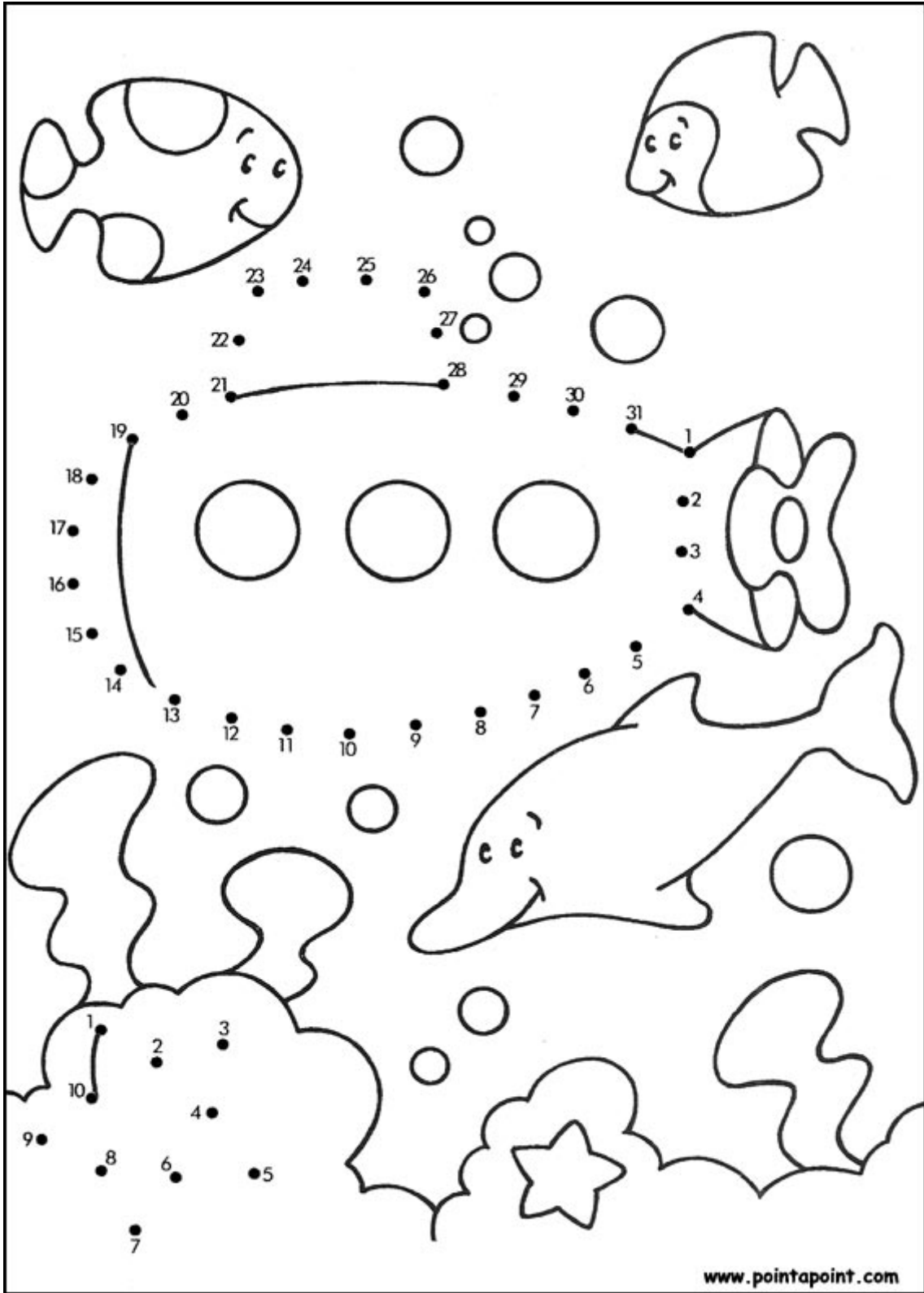
$20 + 28 =$

$41 + 32 =$

$18 + 44 =$

$39 + 7 =$

$17 + 33 =$



www.pointapoint.com