

4 feuilles sur un arbre



Résoudre un problème portant sur les quantités : Trouver le complément à 4

Dessiner les feuilles qui sont tombées de l'arbre



Dire la comptine en montrant au fur et à mesure avec ses doigts le nombre de feuilles dans l'arbre et le nombre de feuilles tombées.





4 feuilles
sur un arbre,
L'une s'envole
dans le vent,
il en reste **3**.



3 feuilles
sur un arbre,
L'une s'envole
dans le vent,
il en reste **2**.



2 feuilles
sur un arbre,
L'une s'envole
dans le vent,
il en reste **1**.



1 feuille
sur un arbre,
L'une s'envole
dans le vent,
il n'en reste plus.

