




Nom :	PHYSIQUE Les mouvements (logiciel « mouvements »)	E.GEOFFROY
Prénom :		
Classe :		2017/2018

Mouvements relatifs

Compléter le tableau ci-dessous en plaçant **M** quand l'objet observé semble en mouvement.

- Quelles figures ont un mouvement rectiligne?
.....
- Quelles figures ont un mouvement circulaire ?
.....
- Quelles figures ont une vitesse constante ?
.....
- Quelles figures ont une accélération constante ?
.....
- Quelles figures ont une décélération constante ?
.....
- Quelles figures n'ont aucun mouvement (restent immobiles)?
.....
- Quelles figures n'ont ni un mouvement circulaire ni un mouvement rectiligne ?
.....

	Lune	Pentag one	Carré	Croix	Cœur	Rond	
Lune							
Pentag one							
Carré							
Croix							
Cœur							
Étoile							


Observateur