

Photo-problème

1



Ma grande sœur veut acheter une nouvelle paire de chaussures de sport. Quelle est le montant de la réduction ?

Photo-problème

2



Je dois acheter 5 barquettes de fraises pour préparer une tarte aux fraises. Combien cela va-t-il me coûter ?

Photo-problème

3



Ma grand-mère achète 4 tee-shirts sur le marché. Combien cela va-t-il lui coûter ?

Photo-problème

4



Le mécanicien doit dévisser tous les boulons pour changer les 4 pneus de la voiture. Combien de boulons va-t-il devoir dévisser ?

Photo-problème

5



Mamie partage le paquet de madeleines entre ses 4 petits-enfants. Combien de madeleines auront-ils chacun ?

Photo-problème

6



A l'ouverture du supermarché, 5 clients viennent emprunter un caddie. Combien y avait-il de caddies avant l'arrivée des clients ?

Photo-problème

7



Amélie sort tous les crayons de couleurs de sa boîte mais il en manque. Combien de crayons de couleurs a-t-elle perdu ?

Photo-problème

8



Sur le parking du Pré de Foire il y a actuellement 180 voitures. Combien reste-t-il de places disponibles ?

## Photo-problème

9



A l'ouverture de la boulangerie, il y avait 5 tartelettes aux framboises et 6 tartelettes au citron. Combien de tartelettes ont été vendues ?

## Photo-problème


10



Le maire de la ville veut installer 15 nouveaux lampadaires comme celui-ci. Combien d'ampoules va-t-il devoir acheter ?

## Photo-problème

11



Je viens de prendre 4 œufs dans la boîte pour faire un gâteau. Combien d'œufs y avait-il d'œufs dans la boîte avant que je fasse mon gâteau ?

## Photo-problème


12



Les agents municipaux doivent tracer 3 nouveaux passages piétons comme celui-ci. Combien faudra-t-il tracer de bandes ?

## Photo-problème

13



Voici une feuille de gommettes tirée d'un paquet de gommettes. Combien y avait-il de gommettes avant qu'on en enlève ?

## Photo-problème

14



La maitresse a acheté de nouveaux livres, si elle range 12 livres dans cette bibliothèque. Combien y aura-t-il de livres ?

## Photo-problème

15



La maitresse a 25 élèves dans sa classe. Combien doit-elle rajouter de chaises pour que tous les élèves puissent s'asseoir ?

## Photo-problème

16



Ma mère veut s'acheter le gilet rouge et le pantalon gris. Combien cela va-t-il lui coûter ?

Photo-problème

17



Le fleuriste a vendu 10 bulbes roses et 6 bulbes jaunes aujourd'hui. Combien d'argent a-t-il gagné ?

Photo-problème


18



Je dois faire des photos d'identité, je choisis de faire 2 formules « mini photos ». Combien cela va-t-il me faire des photos en tout ?

Photo-problème

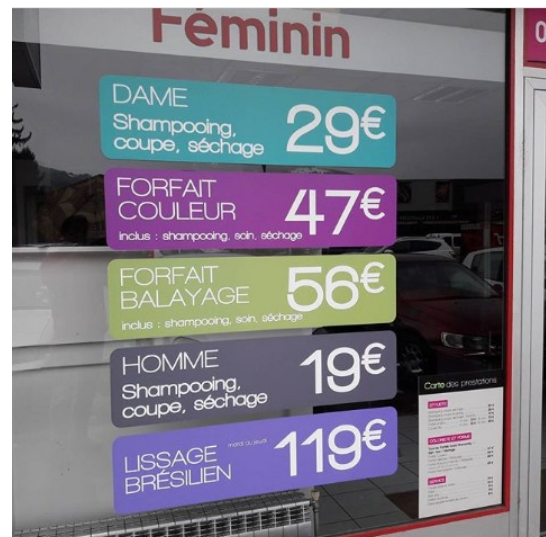
19



J'ai déjà monté 27 marches de cet escalier pour aller au stade. Combien de marches contient cet escalier ?

Photo-problème

20



Ce matin le coiffeur s'est occupé de 2 dames et 1 homme. Combien d'argent a-t-il gagné ?

