

Задания по разделу «БССР в годы Второй мировой и Великой Отечественной войн»

Вариант 1

Часть «А»

А1. Согласно секретному протоколу «пакта Риббентропа — Молотова» Западная Беларусь отходила в «сферу интересов»:

- 1) Германии; 2) Польши; 3) СССР; 4) Литвы.

А2. Красная Армия вошла в Западную Беларусь:

- 1) 23 августа 1939 г.; 3) 17 сентября 1939 г.;
2) 1 сентября 1939 г.; 4) 28 сентября 1939 г.

А3. Определите характеристики, связанные с вступлением Западной Беларуси в состав БССР.

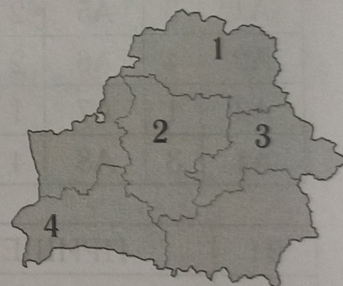
- | | |
|--|---------|
| А) Народное собрание Западной Беларуси прошло в Белостоке | 1) АБВГ |
| Б) в состав Народного собрания вошли выборные депутаты | 2) АБГД |
| В) Народное собрание Западной Беларуси было разогнано советской властью | 3) АВГД |
| Г) Верховный Совет СССР утвердил просьбу Народного собрания о воссоединении Западной Беларуси с БССР | 4) БВГД |
| Д) население БССР увеличилось до 10 млн человек | |

А4. 22 июня 1941 г. произошло:

- 1) начало Второй мировой войны;
2) принятие «плана Барбаросса»;
3) вторжение вермахта на территорию СССР;
4) установление нацистской оккупации на всей территории БССР.

А5. Город, оборону которого описал К. Симонов в своем романе «Живые и мертвые», обозначен на картосхеме цифрой:

- 1) 1;
2) 2;
3) 3;
4) 4.



А6. Бутылки с горючей смесью, используемые советскими солдатами для борьбы с вражескими танками, получили название:

- 1) «коктейль Молотова»; 3) «оружие Руссиянова»;
2) «артиллерия Сталина»; 4) «Катюши».

А7. Система военно-полицейских, политических, идеологических, экономических мероприятий, направленных на установление и поддержку нацистского оккупационного режима, получила название:

- 1) «гауляйтерство»; 2) «Центр»; 3) «план Барбаросса»; 4) «новый порядок».

А8. Нашивка, представленная на фотографии, была на одежде у:

- 1) членов полицейских отрядов в оккупированной Беларуси;
2) узников гетто;
3) «восточных рабочих»;
4) представителей нацистских оккупационных властей.



A9. Жертвами Холокоста в Беларуси стало:

- 1) 200 тыс. человек; 2) 600 тыс. человек; 3) 1 млн человек; 4) 2,2 млн человек.

A10. Мемориал, фрагмент которого представлен на фотографии, посвящен жертвам:

- 1) лагеря Малый Тростенец;
2) Минского гетто;
3) сожженной деревни Хатынь;
4) лагеря Озаричи.



A11. Праведниками народов мира называют:

- 1) людей нееврейской национальности, которые спасали евреев в годы Холокоста;
2) евреев, которые спасали местных жителей во время Холокоста;
3) священнослужителей, которые помогали местному населению в годы оккупации;
4) членов добровольных отрядов самообороны в годы Второй мировой войны.

A12. Судьбу Хатыни в Беларуси повторили:

- 1) более 100 деревень; 3) более 600 деревень;
2) около 500 деревень; 4) около 1000 деревень;

A13. Партизанское движение в Беларуси не носило:

- 1) повсеместного характера; 3) многонационального характера;
2) массового характера; 4) принудительного характера.

A14. 99-летнего партизанского связного Беларуси, участвовавшего в борьбе с германскими захватчиками в годы Первой и Второй мировых войн, звали:

- 1) Константин Заслонов; 3) Василий Корж;
2) Минай Шмырев; 4) Иосиф Талаш.

A15. К концу 1943 г. на территории Беларуси действовало:

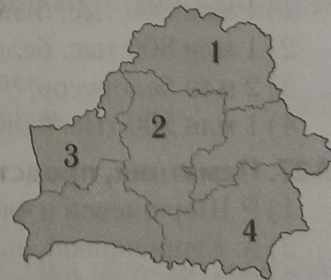
- 1) 10 партизанских зон; 3) 30 партизанских зон;
2) 20 партизанских зон; 4) 40 партизанских зон.

A16. Выберите неправильное утверждение относительно подпольного движения в Беларуси.

- 1) Подрыв сотен километров железной дороги.
2) Диверсионная деятельность.
3) Поддержка связи и помощь партизанам.
4) Нелегальная борьба с оккупационными властями.

A17. Область, где герои-партизаны удерживали партизанскую зону, выстроили 230 км оборонительных рубежей и прорвали кольцо блокады гитлеровцев, обозначена на картосхеме цифрой:

- 1) 1;
2) 2;
3) 3;
4) 4.



A18. В освобождении Беларуси принимали участие:

- 1) 1-й, 2-й Белорусские и 1-й Украинский фронты;
- 2) 1-й, 2-й Белорусские и 2-й Украинский фронты;
- 3) 1-й Прибалтийский, 1-й, 2-й и 3-й Белорусские фронты;
- 4) 1-й Польский, 1-й, 2-й и 3-й Белорусские фронты.

A19. Установите правильную последовательность событий.

А) освобождение Мозыря	1) АБВГ
Б) партизанский парад в Минске	2) АВГБ
В) вступление Красной Армии в Гродно	3) БАВГ
Г) окончание военной операции по освобождению Беларуси	4) БВАГ

A20. Советская армия окружила 100-тысячную группировку войск вермахта под городом:

- 1) Барановичи;
- 2) Минском;
- 3) Брестом;
- 4) Витебском.

A21. В освобождении Беларуси со стороны Польши участвовала:

- 1) команда истребительного авиаполка «Нормандия—Неман»;
- 2) Днепровская флотилия;
- 3) пехотная дивизия имени Т. Костюшко;
- 4) артиллерийская дивизия имени К. Калиновского.

A22. Столица БССР была освобождена от нацистской оккупации:

- 1) 28 июня 1944 г.;
- 2) 3 июля 1944 г.;
- 3) 28 июля 1944 г.;
- 4) 3 августа 1944 г.

A23. Парад германских военнопленных в Москве, взятых в плен в боях за Беларусь, получил название:

- 1) «марш побежденных»;
- 2) «марш оккупантов»;
- 3) «парад преступников»;
- 4) «парад позора».

A24. Выберите правильное утверждение, характеризующее жизнедеятельность Игнатия Антонова.

- 1) Военный летчик.
- 2) Участник обороны Брестской крепости.
- 3) Оказывал врачебную помощь узникам нацистского лагеря.
- 4) Первый получил звание народного врача Беларуси.

A25. История участника боев за Днепр, белорусского летчика Григория Дольникова, попавшего в немецкий плен, послужила прообразом сюжета:

- 1) повести В. Быкова «Альпийская баллада»;
- 2) романа К. Симонова «Живые и мертвые»;
- 3) повести Б. Полевого «Повесть о настоящем человеке»;
- 4) рассказа М. Шолохова «Судьба человека».

A26. На различных фронтах Великой Отечественной войны сражались:

- 1) 1 млн 300 тыс. белорусов;
- 2) 1 млн 800 тыс. белорусов;
- 3) 2 млн белорусов;
- 4) 1 млн 200 тыс. белорусов.

A27. Памятник, представленный на фотографии, установлен в честь:

- 1) Р. Шершневой и членов ее комсомольского молодежного отряда;
- 2) А. Куприяновой, сыновья которой погибли на войне;
- 3) П. Шмыревой и ее погибших детей-заложников;
- 4) А. Казей, сестры героя-партизана Марата Казея.



A28. Выберите факты, относящиеся к истории жизни Зинаиды Тусноловой-Марченко.

А) родом из Борисова	1) АБВ
Б) девушка-снайпер	2) БВГ
В) вынесла с поля боя более 120 раненых солдат	3) БВД
Г) получила медаль им. Флоренс Найтингейл	4) ВГД
Д) на войне она потеряла руки и ноги	

A29. «Во многих официальных документах и газетах слово “Беларусь” переводится как “Уайт Раша”. Это неправильно». Данные слова являются фрагментом выступления:

- 1) К. Киселева на конференции в Сан-Франциско;
- 2) К. Крапивы при подписании Устава ООН;
- 3) К. Мазурова на параде Победы в Москве;
- 4) П. Машерова во время капитуляции Германии.

A30. Выберите неправильное утверждение относительно участия БССР в основании ООН.

- 1) БССР являлась страной-основательницей ООН.
- 2) Конференция по основанию ООН проходила в Сан-Франциско.
- 3) Устав ООН от лица БССР подписал А.А. Громыко.
- 4) БССР была включена в состав ООН за участие 1-го Белорусского фронта в освобождении Европы.

A31. В 1946 г. по предложению БССР Организация Объединенных Наций приняла резолюцию:

- 1) «О работе Нюрнбергского трибунала»;
- 2) «О выдаче и наказании военных преступников»;
- 3) «О разработке Положения об основных правах и свободах человека»;
- 4) «О разработке беженцев».

A32. По уточненным данным людские потери Беларуси во Второй мировой войне составили:

- 1) 2—2,2 млн человек;
- 2) 2,5—2,8 млн человек;
- 3) 2,8—3 млн человек;
- 4) 3,2—3,5 млн человек.

Часть «В»

B1. Запишите фамилию исторической личности.

Лейтенант, начальник пограничной заставы в Брестской крепости. При обороне крепости сражался вместе со своей несовершеннолетней дочерью Нюрой, которая затем погибла в немецком плену. Погиб вместе с солдатами во время защиты Брестской крепости, посмертно удостоен звания Героя Советского Союза. _____

В2. Выберите три правильных утверждения. Ответ запишите цифрами в порядке возрастания. Например: 123.

- 1) Жертвами Холокоста в Беларуси стали местные белорусы, русские и украинцы.
- 2) Целенаправленному преследованию по расовому признаку подвергались евреи.
- 3) На территории Беларуси было создано около 50 гетто.
- 4) Узников гетто заставляли нашивать на свою одежду шестиконечную звезду.
- 5) Беларусь стала одним из мест нацистской депортации западноевропейских евреев на Восток.

В3. Запишите название.

Концентрационный лагерь в Жлобинском районе, служивший сборным пунктом для отправки малолетних детей в Германию. _____

В4. Выберите два правильных утверждения. Ответ запишите цифрами в порядке возрастания. Например: 12.

- 1) Нацисты вывозили белорусов на принудительные работы в Германию.
- 2) Среди «восточных рабочих» были люди всех возрастов, кроме детей.
- 3) Людей в Германию перевозили в товарных вагонах.
- 4) Вывезенных в Германию рабочих обеспечивали хорошим питанием и проживанием, желая сохранить тем самым высокую производительность труда.
- 5) Практически все оstarбайтеры после войны вернулись на родину.

В5. Установите соответствие между личностями их их деятельностью. Ответ запишите в виде сочетания букв и цифр, соблюдая алфавитную последовательность букв левого столбца. Например: А1Б2В3Г4. Помните, что некоторые данные правого столбца могут не использоваться.

А) Римма Шершнева	1) руководитель партизанского движения на территории СССР
Б) Пантелеймон Пономаренко	2) руководитель партизанской бригады в Суражском районе, чьи дети стали заложниками нацистов
В) Марат Казей	3) руководитель еврейского партизанского отряда в Налибокской пуще
Г) Минай Шмырев	4) партизан, закрывший своим телом вражеский стреляющий пулемет
	5) партизанский разведчик, подорвавший себя вместе в врагом

В6. Дополните предложение. Вместо пропуска впишите название.

Генеральный план нацистской Германии по колонизации Восточной Европы (в том числе БССР) и германизации ее населения — _____.

В7. Укажите год исторического события.

Вступление Красной Армии на территорию Беларуси, начало освобождения территории и населения БССР от нацистской оккупации. _____

В8. Дополните предложение. Вместо пропуска впишите название.

Наступательная операция Красной Армии по освобождению Беларуси получила название «_____».

В9. Запишите фамилию военначальника.

Под его командованием уроженцы Западной Беларуси служили в Польском корпусе, сформированном на территории СССР из польских граждан, высланных после 1939 г. из Западной

Беларуси в Сибирь и Казахстан. Его корпус участвовал в битве при Монте-Кассино в составе британской армии. _____

В10. Установите правильную последовательность событий. Ответ запишите цифрами.
Например: 24531.

- 1) Германская оккупация всей территории Беларуси.
- 2) Создание лагеря смерти Тростенец.
- 3) Убийство гауляйтера В. Кубе.
- 4) Последний этап «рельсовой войны».
- 5) Подвиг экипажей А. Маслова и Н. Гастелло.

В11. Установите правильную последовательность событий. Ответ запишите цифрами.
Например: 24531.

- 1) Окончание Великой Отечественной войны.
- 2) Передача Вильно и Виленского края Литве.
- 3) Передача Белосточчины Польше.
- 4) Формирование полка «Нормандия—Неман».
- 5) Создание ООН.

В12. Укажите число. Ответ запишите цифрами.

Число уроженцев Беларуси, получивших за проявленный героизм и мужество во Второй мировой войне звание Героя Советского Союза. _____

ОТВЕТЫ

A1	3	A5	3	A9	2	A13	4	A17	1	A21	3	A25	4	A29	1
A2	3	A6	1	A10	1	A14	4	A18	3	A22	2	A26	1	A30	4
A3	2	A7	4	A11	1	A15	2	A19	1	A23	4	A27	2	A31	2
A4	3	A8	3	A12	3	A16	1	A20	2	A24	4	A28	4	A32	3

B1	КИЖЕВАТОВ	B5	A4B1B5Г2	B9	АНДЕРС
B2	235	B6	ОСТ	B10	51234
B3	КРАСНЫЙБЕРЕГ	B7	1943	B11	24153
B4	13	B8	БАГРАТИОН	B12	449

Вариант 2

Часть «А»

А1. Большая часть населения Западной Беларуси с приходом Красной Армии:

- 1) начала создавать партизанские отряды;
- 2) выступила против советских солдат, считая их завоевателями;
- 3) встретила ее как освободительницу;
- 4) бежала в Западную Польшу.

А2. Договор о ненападении между Германией и СССР был подписан:

- 1) 23 августа 1939 г.;
- 2) 30 августа 1939 г.;
- 3) 3 сентября 1939 г.;
- 4) 17 сентября 1939 г.

А3. Определите мероприятия, проводимые в Западной Беларуси после включения ее в состав БССР.

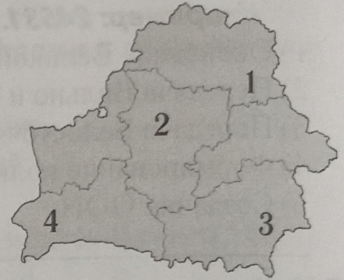
- | | |
|--|---------|
| А) ликвидация всех политических партий | 1) АБВГ |
| Б) национализация крупной промышленности | 2) АБВД |
| В) конфискация помещичьих земель | 3) АВГД |
| Г) перевод обучения в школах на белорусский язык | 4) БВГД |
| Д) проведение коллективизации | |

А4. Гитлеровский «план Барбаросса» предполагал:

- 1) главное стратегическое направление на Киев;
- 2) главное стратегическое направление на Ленинград;
- 3) позиционную войну против СССР;
- 4) молниеносную войну против СССР.

А5. Город, где впервые были применены реактивные минометы («Катюши»), обозначен на картосхеме цифрой:

- 1) 1;
- 2) 2;
- 3) 3;
- 4) 4.



А6. «Отцом Сталинграда» называют:

- 1) оборону Брестской крепости;
- 2) Могилевскую битву;
- 3) пограничные бои у Гродно;
- 4) оборону Минска.

А7. Полное или частичное уничтожение групп населения по расовому, национальному, этническому, политическому либо религиозному признакам — это:

- 1) депортация;
- 2) оккупация;
- 3) гетто;
- 4) геноцид.

А8. Нашивку на одежду, представленную на фотографии, носили:

- 1) советские военнопленные;
- 2) «восточные рабочие»;
- 3) члены партизанских отрядов;
- 4) узники гетто.



А9. Примерное число нацистских лагерей, созданных в годы Великой Отечественной войны на территории Беларуси:

- 1) 110;
- 2) 200;
- 3) 260;
- 4) 350.

А10. Мемориал, фрагмент которого представлен на фотографии, посвящен жертвам:

- 1) лагеря для военнопленных в Масюковщине;
- 2) сожженной деревни Ола;
- 3) концентрационного лагеря «Красный берег»;
- 4) Минского гетто.



А11. «Остарбайтерами» немцы называли:

- 1) узников концентрационных лагерей в Беларуси;
- 2) восточных рабочих, вывезенных на работы в Германию;
- 3) пособников нацистского оккупационного режима;
- 4) людей нееврейской национальности, которые спасали евреев в годы Холокоста.

A12. Крупнейший по количеству жертв нацистский лагерь смерти на территории Беларуси — это:

- 1) Аушвиц; 2) Трешлинка; 3) Малый Тростенец; 4) Майданек.

A13. Партизанским движением называют:

- 1) карательные операции населения в борьбе с врагом;
2) добровольную вооруженную борьбу населения с врагом;
3) разведывательную деятельность населения;
4) подпольную деятельность населения.

A14. Юного 14-летнего партизанского разведчика Минской области, совершившего героический поступок, звали:

- 1) Марат Казей; 3) Минай Шмырев;
2) Николай Гастелло; 4) Александр Мамкин.

A15. К концу 1943 г. партизаны освободили и контролировали:

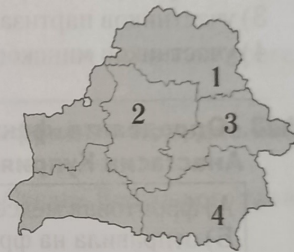
- 1) 30% территории Беларуси; 3) 60% территории Беларуси;
2) 45% территории Беларуси; 4) 75% территории Беларуси.

A16. Выберите неправильное утверждение относительно партизанских зон на территории Беларуси.

- 1) На их территории отсутствовала связь с «Большой землей».
2) На их территории дети могли посещать школы.
3) На их территории крестьяне могли засеивать землю и собирать урожай.
4) На их территории восстанавливалась советская власть.

A17. Город, прозванный немцами «стреляющим городом» за активную подпольную борьбу, обозначен на картосхеме цифрой:

- 1) 1;
2) 2;
3) 3;
4) 4.



A18. В освобождении Беларуси не принимал участие:

- 1) 1-й Украинский фронт; 3) 2-й Белорусский фронт;
2) 1-й Прибалтийский фронт; 4) 3-й Белорусский фронт.

A19. Установите правильную последовательность событий.

А) освобождение Минска	1) БВГА
Б) освобождение Гомеля	2) БГВА
В) вступление Красной Армии на территорию Беларуси	3) ВБГА
Г) начало операции «Багратион»	4) ВГБА

A20. Партизанский парад, посвященный освобождению от нацистской оккупации, состоялся в:

- 1) Бресте; 2) Минске; 3) Орше; 4) Лиде.

A21. В освобождении Беларуси участвовали:

- 1) артиллеристы чешского полка; 3) английские связисты;
2) польские танкисты; 4) летчики французского авиаполка.

A22. Нацистские захватчики были полностью изгнаны из Беларуси:

- 1) 3 июля 1944 г.; 2) 17 июля 1944 г.; 3) 28 июля 1944 г.; 4) 29 августа 1944 г.

A23. Тактика окружения войск противника, используемая Красной Армией во время операции «Багратион», получила название:

- 1) «котел»; 2) «блокада»; 3) «выступ»; 4) «кольцо».

A24. Выберите правильное утверждение, характеризующее жизнедеятельность Казимира Свентека.

- 1) Священник, который был дважды приговорен к расстрелу: сначала советскими, а потом немецкими властями.
- 2) В годы Великой Отечественной войны был беженцем.
- 3) В 1939—1944 гг. служил настоятелем Красного костела.
- 4) Погиб в нацистском лагере смерти.

A25. «Медалью Колобанова», названной в честь белорусского танкиста, участника обороны Ленинграда, в современной компьютерной игре «World of Tanks» награждают того, кто:


- 1) спасает экипаж горящего танка;
- 2) продолжает танковый бой, будучи раненым, и одерживает победу;
- 3) снайперским оружием уничтожает вражеский танк;
- 4) одерживает победу в бою против пяти и более танков противника, оставшись последним живым в своей команде.

A26. Количество выходцев из Беларуси, ставших полными кавалерами ордена Славы:

- 1) 27; 2) 51; 3) 73; 4) 104.

A27. Памятник, представленный на фотографии, установлен в честь:

- 1) погибших в годы Великой Отечественной войны белорусов;
- 2) четырех фронтов, освобождавших Беларусь;
- 3) участников партизанского движения;
- 4) участников минского подполья.



A28. Определите факты, относящиеся к истории жизни Анастасии Куприяновой.

А) фронтовая медсестра, спасшая более 100 советских солдат	1) АБГ
Б) отправила на фронт четверых сыновей	2) БВГ
В) все, кроме одного сына, ставшего Героем Советского Союза, погибли	3) БГД
Г) ее называют «мать-патриотка»	4) ВГД
Д) в ее честь в городе Жодино установлен памятник	

A29. «...Советское правительство считает уместным напомнить о заявлении г-на Черчилля о том, что нелогично приглашать на конференцию в Сан-Франциско все малые страны, которые почти ничего не сделали для победы... и в то же время откладывать приглашение двух советских республик, принесших столь большие жертвы в борьбе с Германией». Две советские республики, о которых идет речь, это:

- 1) БССР и Литовская ССР;
- 2) Литовская ССР и УССР;
- 3) РСФСР и БССР;
- 4) УССР и БССР.

A30. Выберите неправильное утверждение относительно корпуса генерала В. Андерса.

- 1) Был сформирован в Польше в сентябре 1939 г.
- 2) Его состав включал в себя выходцев из Западной Беларуси.
- 3) Входил в состав британской армии.
- 4) Участвовал в боях за Рим.

A31. Согласно Договору между СССР и Польшей о государственной границе 1945 г. Польша получала определенные районы:

- 1) Белостокской и Брестской областей;
- 2) Брестской и Гродненской областей;

- 3) Гродненской и Виленской областей; 4) Виленской и Белостокской областей.

A32. Великая Отечественная война закончилась:

- 1) 28 июля 1944 г.; 2) 9 мая 1945 г.; 3) 26 июня 1945 г.; 4) 2 июля 1945 г.

Часть «В»

B1. Запишите фамилию исторической личности.

Капитан, командир эскадрильи. Во время оборонительных боев за Беларусь совершил наземный таран, направив горящий самолет на группу немецких танков. Посмертно удостоен звания Героя Советского Союза. _____

B2. Выберите три правильных утверждения. Ответ запишите цифрами в порядке возрастания. Например: 123.

- 1) Отношение оккупантов к белорусам было определено планом под названием «Новый порядок».
- 2) Оккупационные власти планировали онемечить 25% белорусов, а остальных — выселить.
- 3) Местное белорусское население относилось к «низшей расе».
- 4) Выселение белорусов определялось необходимостью расширения «жизненного пространства» для немцев.
- 5) В крупных городах Беларуси планировалось создать поселения только для привилегированных слоев белорусского общества.

B3. Запишите название.

Сожженная вместе с 149 жителями деревня в Логойском районе, ставшая символом трагедии белорусского народа в годы Великой Отечественной войны. _____

B4. Выберите два правильных утверждения. Ответ запишите цифрами в порядке возрастания. Например: 12.

- 1) Координирующую роль в партизанском движении СССР играла Ставка Верховного главнокомандующего.
- 2) Координирующую роль в партизанском движении БССР играл Центральный штаб партизанского движения.
- 3) Центральный штаб партизанского движения возглавлял белорус М. Шмырев.
- 4) К партизанским формированиям относятся отряды и бригады.
- 5) Партизанское движение в Беларуси имело многонациональный характер.

B5. Установите соответствие между личностями и их деятельностью. Ответ запишите в виде сочетания букв и цифр, соблюдая алфавитную последовательность букв левого столбца. Например: А1Б2В3Г4. Помните, что некоторые данные правого столбца могут не использоваться.

А) Евгений Клузов	1) священник в Ружанах, предложивший себя в заложники взамен расстрела невинных местных мужчин
Б) Александр Мамкин	2) организатор диверсий на железнодорожном узле в Орше
В) Константин Заслонов	3) врач минской больницы, сотрудничавший с партизанами и спасавший людей от угона в Германию
Г) Иоани Навроцкий	4) летчик, тайно вывозивший в эвакуацию воспитанников Полоцкого детского дома
	5) подпольщик-проводник, выведивший узников Новогрудского гетто к партизанам

В6. Запишите название.

Операция советских партизан в 1943—1944 гг. по одновременному массовому разрушению железнодорожных коммуникаций на оккупированной территории с целью дезорганизации военных перевозок противника. _____

В7. Укажите год исторического события.

Начало операции «Багратион». _____

В8. Дополните предложение. Вместо пропуска впишите понятие.

Памятное место или памятник, установленный с целью сохранения памяти о ком-либо или о чем-либо, называется _____.

В9. Запишите фамилию политического деятеля.

Народный комиссар иностранных дел БССР, представлявший страну на конференции, посвященной созданию ООН. _____

В10. Установите правильную последовательность событий. Ответ запишите цифрами.

Например: 24531.

- 1) Создание гетто в Минске.
- 2) Сожжение деревни Хатынь.
- 3) Вступление Красной Армии в оккупированную нацистами Беларусь.
- 4) Начало организованного партизанского движения в Беларуси.
- 5) Германская оккупация всей территории Беларуси.

В11. Установите правильную последовательность событий. Ответ запишите цифрами.

Например: 24531.

- 1) Начало Великой Отечественной войны.
- 2) Капитуляция Германии.
- 3) Парад белорусских партизан.
- 4) Поход Красной Армии в Западную Беларусь.
- 5) Подписание Устава ООН.

В12. Дополните предложение. Ответ запишите цифрой.

По уточненным данным во Второй мировой войне белорусская земля потеряла каждого _____ своего жителя.

ОТВЕТЫ

A1	3	A5	1	A9	3	A13	2	A17	2	A21	4	A25	4	A29	4
A2	1	A6	2	A10	4	A14	1	A18	1	A22	3	A26	3	A30	4
A3	4	A7	4	A11	2	A15	3	A19	3	A23	1	A27	2	A31	1
A4	4	A8	4	A12	3	A16	1	A20	2	A24	1	A28	3	A32	2

B1	ГАСТЕЛЛО	B5	АЗБ4В2Г1	B9	КИСЕЛЕВ
B2	234	B6	РЕЛЬСОВАЯВОЙНА	B10	51423
B3	ХАТЫНЬ	B7	1944	B11	41325
B4	45	B8	МЕМОРИАЛ	B12	3