

УТВЕРЖДАЮ

Заместитель председателя оргкомитета
третьего этапа, первый заместитель
начальника главного управления по
образованию Витебского областного
исполнительного комитета

Е.Л. Богданович

20 октября 2022 г.

**Задания
второго этапа республиканской олимпиады
по учебным предметам «История Беларуси» и «Всемирная история»
X класс
2022/2023 учебный год**

1

ВНИМАТЕЛЬНО РАССМОТРИТЕ ИЛЛЮСТРАЦИЮ И ОТВЕЬТЕ НА ВОПРОСЫ



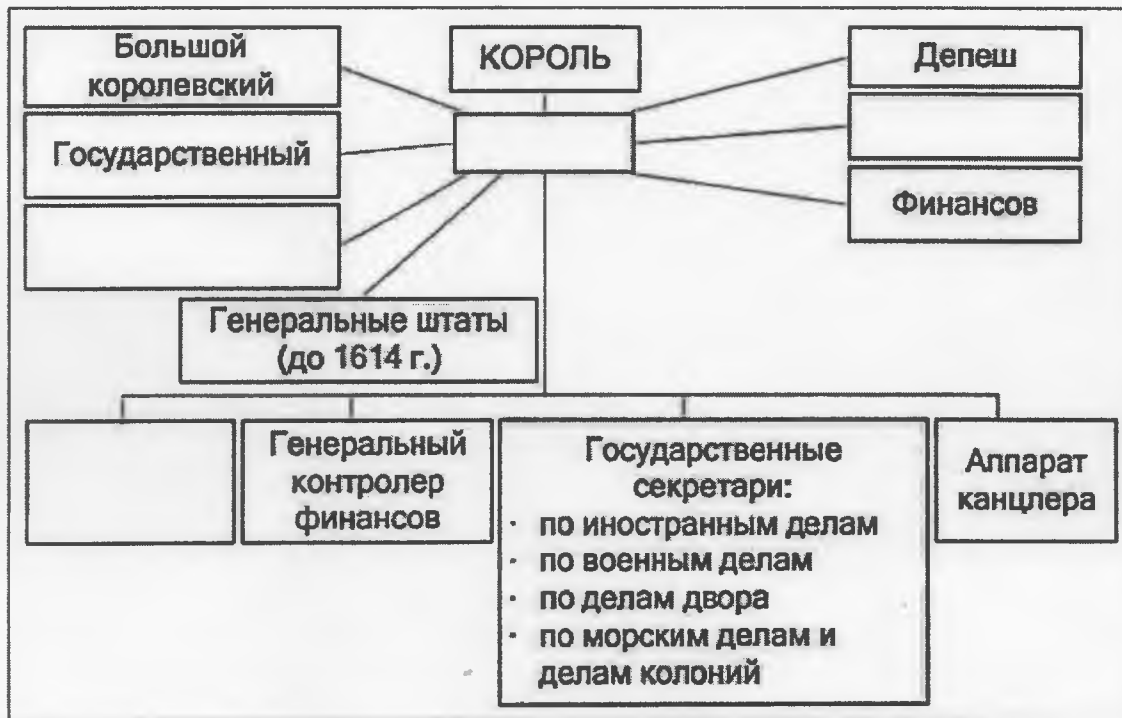
1. Какое событие изображено на картине? Когда оно произошло?

2. Какие известные исторические личности изображены на картине?

3. Каково значение представленного на картине события?

2

РАССМОТРИТЕ СХЕМУ И ДАЙТЕ ОТВЕТЫ НА ВОПРОСЫ



1. К истории какой страны относится эта схема? Заполните схему.

2. Какой период истории этой страны отражает эта схема?

3. Кто из исторических деятелей этой страны подготовил почву для такой формы государственного устройства?

4. Назовите имя и годы правления главы этого государства, когда приведенная в схеме система управления проявилась наиболее ярко?

5. Какое здание в этой стране стало символом величия власти монарха?

3

ПРОЧИТАЙТЕ ОТРЫВКИ ИЗ «ПОВЕСТИ ВРЕМЕННЫХ ЛЕТ». ЗАПОЛНИТЕ ПРОПУСКИ В ТЕКСТЕ, ОБОЗНАЧИВ ДЕЙСТВУЮЩЕЕ ЛИЦО ЛИБО МЕСТО, ЗАШИФРОВАННЫЕ ЦИФРАМИ. УКАЖИТЕ ГОД СОБЫТИЯ

№	год	Отрывок из документа	имя / место
1.	(?)	Варяги из заморья взимали дань с чуди, и со словен, и с мери, и с (1). А хазары брали с полян, и с северян, и с вятичей по серебряной монете и по белке от дыма.	1 (союз племен)
2.	(?)	Изгнали варяг за море, и не дали им дани, и начали сами собой владеть, и не было среди них правды, и встал род на род, и была у них усобица, и стали воевать друг с другом. И сказали себе: "Поищем себе князя, который бы владел нами и судил по праву". ... <i>И избрались трое братьев со своими родами, и взяли с собой всю русь, и пришли, и сел старший, (2), в Новгороде, а другой, (3), – на Белоозере, а третий, (4), – в Изборске.</i>	2 (имя) 3 (имя) 4 (имя)
3.	(?)	Выступил в поход (5), взяв с собою много воинов: варягов, чудь, словен, мерю, весь, кривичей, и пришел к Смоленску с кривичами, и принял власть в городе, и посадил в нем своего мужа. Оттуда отправился вниз, и взял Любеч, и также посадил мужа своего. И сел (5), княжа, в (6), и сказал: "Да будет это мать городам русским".	5 (имя) 6 (город)

4.	(?)	Послал (7) к (8), спрашивая: "Кому даете дань?". Они же ответили: "Хазарам". И сказал им (7): "Не давайте хазарам, но платите мне". И дали (8) по щелягу, как и хазарам давали. И властвовал (7) над полянами, и древлянами, и северянами, и (8), а с уличами и тиверцами воевал.	7 (имя) 8 (союз племен)
5.	(?)	Пошел (9) на греков, оставив Игоря в Киеве; <i>взял же с собою множество варягов, и славян, и чуди, и кривичей, и мерю, и древлян, и радимичей, и полян, и северян, и вятичей, и хорватов, и дулебов, и тиверцев.</i> И с этими всеми пошел (9) на конях и в кораблях; и было кораблей числом 2000. И пришел к (10): греки же замкнули Суд, а город затворили. И вышел (9) на берег, и начал воевать, и много убийств сотворил в окрестностях города грекам, и разбила множество палат, и церкви пожгли.	9 (имя) 10 (город)
6.	(?)	И послал к (11) в (12) сказать: "Хочу дочь твою взять себе в жены". Тот же спросил у дочери своей: "Хочешь ли за (13)?" Она ответила: "Не хочу разуть сына рабыни, но хочу за Ярополка". ... (13) же собрал много воинов – варягов, словен, чуди и кривичей - и пошел на (12). А в это время собирались уже вести (14) за Ярополка. И напал (13) на (12), и убил (11) и двух его сыновей, а дочь его взял в жены. И пошел на Ярополка.	11 (имя) 12 (город) 13 (имя) 14 (имя)
7.	(?)	Пошел Владимир на (15). Был у него воевода (16); и послал Владимир (16) вперед себя, и встретил тот (15) на реке Пищане, и победил (16) (15). Оттого и дразнят русские (15), говоря: "Пищанцы от волчьего хвоста бегают".	15 (союз племен) 16 (имя)
8.	(?)	Пришел (17) с печенегами в силе грозной, и Ярослав собрал множество воинов и вышел против него на (18)... Была же тогда пятница, и всходило солнце, и сошлись обе стороны, и была сеча жестокая, какой не бывало на Руси, и, за руки хватаясь, рубились, и сходились трижды, так что текла кровь по низинам. К вечеру же одолел Ярослав, а (17) бежал.	17 (имя) 18 (река)

9.	(?)	<p>Пришел (19), сын (20), внук Владимира, на Новгород, и взял Новгород, и, захватив новгородцев и имущество их, пошел к Полоцку снова. И когда пришел он к реке (21), и (22) из Киева на седьмой день нагнал его тут. И победил (22) (19), и новгородцев воротил в Новгород, а (19) бежал к Полоцку.</p>	<p>19 (имя) 20 (имя) 21 (река) 22 (имя)</p>
10.	(?)	<p>Поднял рать в Полоцке (23), сын (24), и занял (25). Трое же Ярославичей, Изяслав, Святослав, Всеволод, собрав воинов, пошли на (23) в сильный мороз. И подошли к (26), и горожане затворились в городе. Братья же эти взяли (26) и перебили всех мужей, а жен и детей захватили в плен и пошли к (27), и (23) пошел против них. И встретились противники на (27) месяца марта в 3-й день; и был снег велик, и пошли друг на друга. И была сеча жестокая, и многие пали в ней, и одолели Изяслав, Святослав, Всеволод, Всеслав же бежал.</p>	<p>23 (имя) 24 (имя) 25 (город) 26 (город) 27 (река)</p>
11.	(?)	<p>Пришли Святополк, и Владимир, и Давыд Игоревич, и Василько Ростиславич, и Давыд Святославич, и брат его Олег, и собрались на совет в (28) для установления мира, и говорили друг другу: "Зачем губим Русскую землю, сами между собой устраивая распри? А половцы землю нашу несут розно и рады, что между нами идут воины. Да отныне объединимся единым сердцем и будем блюсти Русскую землю, и пусть каждый владеет отчиной своей"</p>	<p>28 (город)</p>
12.	(?)	<p>Ходил (29) походом на (30) (Всеславича), (30) ведь воевал с дреговичами, (31) пожег, и не каялся в этом и не выражал покорности, но еще больше перечил (29), укоряя его. (29) же, надеясь на Бога и на правду, пошел к Минску с сьновьями своими, и с Давыдом</p>	<p>29 (имя) 30 (имя)</p>

4

Святославичем, и Ольговичами. И взял Вячеслав Оршу и Копысу, а Давыд с Ярополком взяли Дрютск на щит, а Владимир сам пошел к Смоленску; и затворился (30) в городе.

31
(город)

РАССМОТРИТЕ ФОТО И ОТВЕЬТЕ НА ПРЕДЛОЖЕННЫЕ ВОПРОСЫ




1. Какие исторические деятели представлены на фото?

2. Лидерами каких государств они являлись? Укажите, какие руководящие посты они занимали и когда.

3. Что объединяет данных политических деятелей? Какое определение получила их политика?

- 4. Охарактеризуйте общие черты их политики. Против чего выступили представленные политики в своей деятельности и какими действиями сопровождалась их политика?**



- 5. Какими были итоги проводимой политики?**



5

ЗАПОЛНИТЕ ТАБЛИЦУ «Законодательные акты великих князей литовских в конце XIV – XV вв.».

№	Название документа/ имя великого князя	Дата издания	Значение
1.			Закрепление имущественных и личных прав феодалов, феодалы католического вероисповедания получали дополнительные экономические права
2.	Городельский привилей / <i>(имя князя)</i>		
3.	Привилей Сигизмунда Кейстуовича	1434 г.	
4.			Право владеть землей и занимать государственные посты в ВКЛ закреплялось только за уроженцами княжества. За феодалами закреплялось владение землей на правах полной собственности
5.	<i>(документ)</i> / Казимир		Введение уголовной ответственности за совершённые преступления против представителей власти и жителей государства
6.		1492 г.	

7.			Восстановление в политических правах всей шляхты государства

6

ВНИМАТЕЛЬНО РАССМОТРИТЕ ИЛЛЮСТРАЦИИ И ОТВЕЬТЕ НА ВОПРОСЫ




Надпись на медали «Отторгнутые насилем воссоединены любовью»

1. Какому событию посвящена этот медаль?

2. Когда и где произошло это событие?

3. Объясните надпись на медали: «Отторгнутые насилем воссоединены любовью»).



7

**ВНИМАТЕЛЬНО РАССМОТРИТЕ КАРИКАТУРУ И ОТВЕТЬТЕ
НА ВОПРОСЫ**



1. Каким событиям посвящена карикатура?

2. Укажите время создания карикатуры

3. Какие страны олицетворяют персонажи карикатуры?

4. Какая дипломатическая ситуация в аллегорической форме здесь отражена? Как в итоге она разрешилась?

8

ДАЙТЕ ОБЪЯСНЕНИЕ ИСТОРИЧЕСКИМ ПОНЯТИЯМ

№	Явление	Время	Страна	Содержание
1.	Рисорджименто			
2.	Инфитах			
3.	Маккартизм			

4.	«Ночь длинных ножей»			
5.	Северный поход			
6.	«Амритсарская бойня»			
7.	«Рисовые бунты»			

9

ДАЙТЕ ОТВЕТЫ НА ТЕСТОВЫЕ ЗАДАНИЯ

I.



ОПРЕДЕЛИТЕ ПРАВИЛЬНЫЙ ОТВЕТ

история Беларуси	всемирная история
<p>1. Около VII в. до н. э. на территории Беларуси:</p> <ul style="list-style-type: none">а) появился человек современного типаб) отступил последний ледникв) появились железные орудия трудаг) начало развиваться земледелие. <p>2. Полонковской битвой называют:</p> <ul style="list-style-type: none">а) битву на р. Басиб) битву под Ляховичамив) битву на р. Ольшаницег) битву под Чаусами <p>3. Постановление сейма «Уравнение прав», согласно которому великокняжеская шляхта уравнивалась в правах с польской, было принято в:</p> <ul style="list-style-type: none">а) 1596 г.б) 1697 г.в) 1649 г.г) 1717 г. <p>4. Уроженец Беларуси, который принимал участие в первых Олимпийских играх в качестве журналиста и строителя спортивных объектов:</p> <ul style="list-style-type: none">а) Иван Черскийб) Зигмунт Минейков) Михаил Здановичг) Иван Дубович <p>5. В 1992 г. Республика Беларусь подписала:</p> <ul style="list-style-type: none">а) программы НАТО «Партнерство ради мира»б) Заключительный акт Соевещения по безопасности и сотрудничеству в Европев) Декларацию тысячелетияг) Договор о вступлении во Всемирную торговую организацию	<p>6. Царь, покоривший Египет в 525 г. до н.э.:</p> <ul style="list-style-type: none">а) Кир Iб) Дарий Iв) Камбизг) Кир II <p>7. Древнее государство Урарту находилось на территории современной:</p> <ul style="list-style-type: none">а) Арменииб) Грузиив) Молдовыг) Украины <p>8. Первый на славянских землях университет был основан в 1348 г. в:</p> <ul style="list-style-type: none">а) Прагеб) Варшавев) Краковег) Брно <p>9. Республика Великая Колумбия было образована в:</p> <ul style="list-style-type: none">а) 1819 г.б) 1820 г.в) 1821 г.г) 1822 г. <p>10. Период 1958 – начала 1960-х гг. вошел в историю КНР под названием:</p> <ul style="list-style-type: none">а) «культурной революции»б) «большого скачка»в) «китайской перестройки»г) «первой пятилетки»

II.




СООТНЕСИТЕ

11. Соотнесите название сословно-представительного органа со временем его возникновения:

1	Генеральные штаты	а	1265 г.
2	Кортесы	б	1302 г.
3	Парламент	в	1188 г.
4	Рейхстаг	г	1549 г.
5	Земский собор	д	1274 г.

1 –	2 –	3 –	4 –	5 –г
-----	-----	-----	-----	------

12. Город Беларуси и герб, который он имел, пользуясь магдебургским правом:



1. Полоцк; 2. Пинск; 3. Дисна; 4. Могилёв; 5. Каменец; 6. Брест.

1 –	2 –	3 –	6 –	7 –	6 –
-----	-----	-----	-----	-----	-----

13. Организации и их штаб-квартиры сегодня:

1	ООН	а	Вена
2	ОПЕК	б	Минск, Москва
3	СНГ	в	Нью-Йорк
4	ВТО	г	Женева


1 –	2 –	3 –	4 –
-----	-----	-----	-----

14. Названия произведений и их авторов:

1	«Флора Литвы»	а	Казимир Нарбут
2	«История польского народа»	б	Матей Догель
3	«Дипломатический кодекс Королевства Польского и Великого Княжества Литовского»	в	Адам Нарушевич
4	«Логика, или Наука размышления и мнения о предмете науки»	г	Жан Жилибер

1 –	2 –	3 –	4 –
-----	-----	-----	-----

III.



РАССТАВЬТЕ В ПРАВИЛЬНОЙ
ХРОНОЛОГИЧЕСКОЙ
ПОСЛЕДОВАТЕЛЬНОСТИ

15. *Варварские королевства на территории Западной Римской империи по времени возникновения:*

А) Королевство бургундов; Б) Королевство вандалов; В) Королевство вестготов; Г) Королевство остготов; Д) Королевство франков

1 –	2 –	3 –	4 –	5 –
-----	-----	-----	-----	-----

16. *Европейские военные конфликты:*

А) Тридцатилетняя война; Б) Столетняя война; В) война Алой и Белой Розы; Г) Нормандское завоевание Англии.

1 –	2 –	3 –	4 –
-----	-----	-----	-----

17. *Президентов Франции:*

А) Николя Саркози; Б) Франсуа Миттеран; В) Жискар Д'Эстен; Г) Жак Ширак.

1 –	2 –	3 –	4 –
-----	-----	-----	-----

18. *События гражданской войны в России:*

А) первое наступление И.И. Юденича на Петроград; Б) «ледовый поход» Добровольческой армии Л.Г. Корнилова и А.И. Деникина; В) переворот в Омске адмирала А.В. Колчака; Г) начало наступления А.И. Деникина на Москву.

1 –	2 –	3 –	4 –
-----	-----	-----	-----

IV.



ОПРЕДЕЛИТЕ СЛЕДУЮЩИЕ ПОНЯТИЯ

19.	Епархия	
20.	Погост	
21.	Смерд	

31. Верно ли, что:

- 1) Архонт, при котором в 621 г. до н.э. был составлен и записан первый свод законов, действовавших в Афинах, – это Ликург;
- 2) Фараон, который впервые возвел себе гробницу в форме пирамиды, – это Хеопс.
 - а) верно 1
 - б) верно 2
 - б) верно 1 и 2
 - г) неверно 1 и 2


VI.



НАПИШИТЕ, КТО ИЗ ИЗВЕСТНЫХ ДЕЯТЕЛЕЙ ПОЛУЧИЛ СЛЕДУЮЩИЕ ПРОЗВИЩА

32.	«Китайский Бонапарт»	
33.	«Белый лис»	
34.	«Всесоюзный староста»	
35.	«Мистер Нет»	
36.	«Минский Бисмарк»	
37.	«Белорусский Леонардо да Винчи»	


VII.



ОТМЕТЬТЕ «ПТИЧКОЙ» СЛЕВА, КАКОЕ СОБЫТИЕ ПРОИЗОШЛО РАНЬШЕ

38.	Битва при Гастингсе	ИЛИ	Битва на Немиге
39.	Битва при Креси	ИЛИ	Битва на реке Синие Воды
40.	Битва при Анкаре	ИЛИ	Битва под Ворскле
41.	Битва при Азенкуре наследство	ИЛИ	Битва под Вилькомиром
42.	Битва при Лепанто	ИЛИ	Битва на реке Улле
43.	Битва при Клушине	ИЛИ	Битва под Кирхгольмом
44.	Гангутское сражение	ИЛИ	Битва у Лесной
45.	Бородинская битва	ИЛИ	Битва под Солтановкой

VIII.



НАЙДИТЕ НА КАРТЕ СЛЕДУЮЩИЕ ИСТОРИЧЕСКИЕ ОБЛАСТИ (ГОСУДАРСТВА) ЕВРОПЫ IX в.

46. Кордовский эмират

47. Нейстрия

48. Бургундия

49. Астурия

50. Великоморавская держава

51. Лотарингия



IX.



НАЗОВИТЕ АВТОРОВ ДАННЫХ ВЫСКАЗЫВАНИЙ.

52.	«Мёртвые срама не имут»	
53.	«Есть, чтобы жить, а не жить, чтобы есть»	
54.	«Я привез вам мир для целого поколения»	
55.	Стреляй редко, да метко. Штыком коли крепко. Пуля обмишкулится, штык не обмишкулится: пуля – дура, штык – молодец»	
56.	«Сначала они тебя не замечают, потом смеются над тобой, затем борются с тобой. А потом ты побеждаешь»	
57.	«Я предпочитаю писать глаза людей, а не соборы... человеческая душа, пусть даже душа несчастного нищего...на мой взгляд, гораздо интереснее»	
58.	«Моя важнейшая цель в этой борьбе – спасение Союза, а не сохранение или уничтожение рабства. Если бы я смог спасти Союз, не освободив при этом ни одного раба, я слелал бы это»	



ОТВЕТЬТЕ НА ВОПРОСЫ ПО ИСТОРИЧЕСКИМ ДОКУМЕНТАМ

XI.

<p>59.</p>	<p>«Всякая власть в человеческом обществе берет свое начало в воле народа. И чтобы целостность государства, свобода граждан и общественный порядок оставались всегда в равновесии, правительство народа польского должно состоять, и по воле этого закона всегда будет состоять, из трех властей, т. е. законодательной власти у объединенных сословий, высшей исполнительной власти у короля и стражи и власти судебной...»</p> <p><i>Из какого исторического источника взят отрывок? Когда и кем этот документ был принят?</i></p> <p>_____</p> <p>_____</p>
<p>60.</p>	<p>«Ныне Япония потребовала на [Парижской] мирной конференции отторжения Циндао и права контроля над Шаньдуном и добилась в этом успеха. Ее победа означает наше поражение. Передача Японии прав в Шаньдуне подрывает суверенитет Китая, что ведет страну к гибели. По этому мы, студенты, организованно направляемся к иностранным посольствам, чтобы потребовать от всех стран поддержки, справедливости... Все соотечественники ныне должны усвоить ту истину, что нельзя мириться с отторжением территории страны, нельзя допускать, чтобы народ склонил голову. Страна в опасности! Соотечественники, поднимайтесь! »</p> <p><i>Из какого исторического источника взят отрывок? Когда произошли описываемые события (укажите точную дату)?</i></p> <p>_____</p> <p>_____</p>
<p>61.</p>	<p>«Согласно древнему обычаю, военный поход остается обязанностью, которая осуществляется за собственный счет и деньги. В том случае, если придется преследовать врагов, неприятелей наших, которые бежали бы с нашей земли, то для этого преследования, ... обязаны отправляться не только рыцари, но и каждый мужчина, какое бы он ни имел происхождение или благосостояние, лишь бы только был способен носить оружие».</p> <p><i>Назовите вид ополчения ВКЛ, о котором говорится в документе. Для какого периода он был характерен (укажите века)?</i></p> <p>_____</p> <p>_____</p>

ХII.  **ОПРЕДЕЛИТЕ ИСТОРИЧЕСКИЕ ЛИЧНОСТИ**
(имя и фамилия)

			
62.	63.	64.	65.
			
66.	67.	68.	69.
			
70.	71.	72.	73.

ХIII.  **НАПИШИТЕ, К КАКОМУ НАПРАВЛЕНИЮ (СТИЛЮ) ПРИНАДЛЕЖАТ АРХИТЕКТУРНЫЕ ПАМЯТНИКИ**



74.



75.



76.



77.



78.



79.



80.



81.