

## РАЗДЕЛ II. СОЦИАЛЬНО-ЭКОНОМИЧЕСКОЕ РАЗВИТИЕ БЕЛАРУСИ

### § 8. Решение аграрного вопроса в XIX — начале XX в.

1. Проанализируйте данные таблицы и сделайте вывод о характере помещичьего землевладения в Беларуси в первой половине XIX в.

Параметры для сравнения	Удельный вес помещичьих хозяйств, %	Количество крепостных крестьян, %
Крупные хозяйства (500 и более ревизских душ <sup>1</sup> )	3,7%	50%
Средние хозяйства (от 100 до 500 ревизских душ)	20%	34,4%
Мелкие хозяйства (менее 100 ревизских душ)	76,3%	15,6%
Вывод:		

Раскройте причинно-следственную связь между следующими явлениями: существование крепостного права → замедление темпов развития помещичьих хозяйств.

---



---



---



---



---

2. В первой половине XIX в. российское правительство было вынуждено провести ряд аграрных реформ, но они вызвали недовольство как помещиков, так и крестьян. Объясните, почему проведенные реформы не достигли своих целей.

---



---



---



---



---

<sup>1</sup>Ревизская душа — единица учета лиц мужского пола, входивших в податные сословия, для налогообложения.

**3.** Поясните, можно ли утверждать, что условия получения крестьянами земли фактически компенсировали помещикам потерю собственности над ними.

---

---

---

---

---

---

---

---

---

---

Оцените историческое значение аграрной реформы 1861 г.

---

---

---

---

---

---

---

---

**4.** Сравните «прусский» и «американский» пути развития капитализма в сельском хозяйстве Беларуси.

Черты «прусского пути» развития капитализма	Черты «американского пути» развития капитализма
Вывод:	

Перечислите те условия отмены крепостного права, которые предопределили «прусский путь» в сельском хозяйстве Беларуси.

---

---

---

---

---

---

---

---

---

5. Определите, как были связаны между собой политические и экономические цели столыпинской аграрной реформы.

---

---

---

---

---

Объясните и прокомментируйте слова П.А. Столыпина о том, что правительственная аграрная политика была рассчитана на «разумных и сильных, а не пьяных и слабых».

---

---

---

---

---

Сделайте вывод о том, какая из форм землевладения — общинная или хуторская — является более эффективной. Свой ответ объясните.



2. Охарактеризуйте промышленное развитие Беларуси в XIX — начале XX в. Определите феодальные и капиталистические черты, которые были характерны для него.

Параметры для сравнения и характеристики	Черты феодализма		Капиталистические черты	
	в первой половине XIX в.	во второй половине XIX — начале XX в.	в первой половине XIX в.	во второй половине XIX — начале XX в.
Промышленное развитие Беларуси				

Сделайте вывод о том, какие условия были необходимы для развития капитализма в промышленности, и существовали ли они во второй половине XIX — начале XX в.

---



---



---



---



---



---



---



---



---



---

3. Определите направления специализации промышленности в Беларуси. Обозначьте на картосхеме названия городов и соответствующих промышленных предприятий.

---

---

---

---

---

---

---

---



4. Объясните, почему и как внутренний рынок Беларуси со строительством железных дорог стал составной частью общероссийского и европейского рынка.

---

---

---

---

---

---

---

---

---


---

---

---

---

5. Составьте и прокомментируйте схему «Особенности процесса урбанизации в Беларуси».



---

---

---

---

---

---

---

---

**§ 10. Социально-экономическое развитие в 1918—1941 гг.**

1. Проанализируйте новую экономическую политику по следующему плану:

а) причины введения — \_\_\_\_\_

---

---

---

---

б) экономические и политические цели — \_\_\_\_\_

---

---

---

---

в) основные мероприятия — \_\_\_\_\_

---

---

---

---

г) капиталистические и социалистические черты — \_\_\_\_\_

---

---

---

---

д) возможные трудности в ходе ее реализации — \_\_\_\_\_

---

---

---

---

е) итоги и значение — \_\_\_\_\_

На основании анализа сделайте вывод о том, мог ли НЭП стать средством построения социалистического общества.

2. Охарактеризуйте географию индустриализации в БССР. Какие традиционные отрасли промышленности получили дальнейшее развитие?

Чем было обусловлено появление новых отраслей промышленности?

Используя данные таблицы «Новостройки в БССР в годы довоенных пятилеток» в параграфе учебного пособия, подчеркните на картосхеме соответствующие названия городов и подпишите промышленные предприятия.



3. Раскройте причинно-следственные связи между следующими историческими событиями:

а) коллективизация сельского хозяйства → проведение индустриализации —

---

---

---

---

б) политика сплошной коллективизации → раскулачивание —

---

---

---

---

в) завершение коллективизации → изменение социальной структуры населения —

---

---

---

---

4. Сравните социально-экономическое развитие Западной Беларуси и БССР в 1920-е — 1930-е гг. Сделайте вывод о его направленности и итогах.

Параметры для сравнения	Западная Беларусь	БССР
Развитие промышленности		
Развитие сельского хозяйства		
Вывод:		

**5. Проанализируйте справочные данные и выполните предложенные задания.**

*По данным переписи населения 1921 г. беднейшие слои крестьянства (с наделом площадью до 10 га) составляли в Западной Беларуси 80,2% всех крестьянских хозяйств. Им принадлежало всего 25% от общего земельного фонда.*

*При этом средний размер земельного надела этой прослойки крестьян составлял до 4,9 га. Земельные наделы от 1 до 2 га имели 7,8% крестьян, а менее 1 га — 5,8% крестьянских хозяйств.*

О каких социально-экономических явлениях в Западной Беларуси могут свидетельствовать приведенные данные?

---

---

---

---

---

Почему земельный надел размером до 10 га в Западной Беларуси свидетельствовал о принадлежности к беднейшим слоям крестьянства?

---

---

---

---

---

В настоящее время в Республике Беларусь площадь земельного участка для ведения личного подсобного хозяйства, предоставляемого в сельском населенном пункте, не может превышать 1 гектар, а для коллективного садоводства и дачного строительства — 15 соток. Чем вы можете объяснить произошедшие за сто лет изменения в подходах к формированию площади земельных наделов, необходимых для ведения хозяйства?

---

---

---

---

---

---

---

---

**§ 11. Социально-экономическое развитие  
во второй половине 1940-х — 1980-е гг.**

1. Определите принципы, которые были положены в основу первой и последующих послевоенных пятилеток. Объясните, существовали ли альтернативы развития народного хозяйства БССР в послевоенные годы.

---

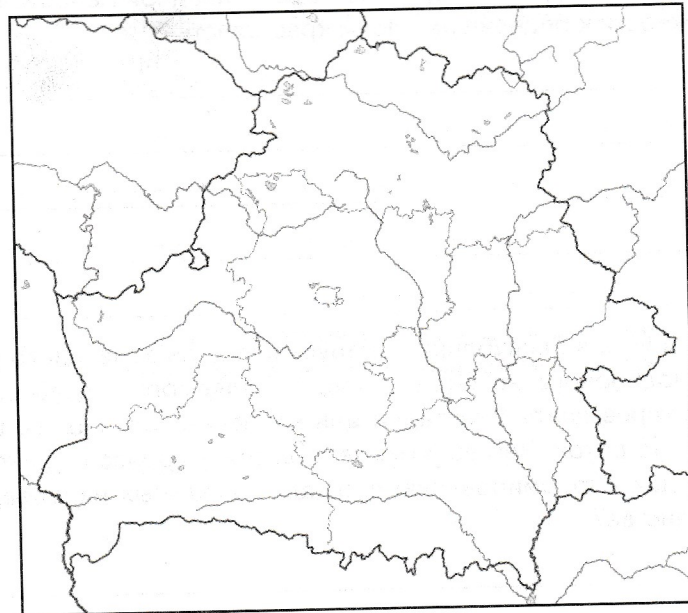
---

---

---

---

2. Используя сведения параграфа учебного пособия, обозначьте на картосхеме города, в которых размещались промышленные предприятия, построенные в БССР в конце 1940-х—1980-е гг., и подпишите их названия.



Сделайте вывод о том, как изменилась отраслевая структура промышленности БССР за послевоенные годы.

---

---

---

---



5. Раскройте сущность понятия «агропромышленный комплекс». Объясните, когда и в связи с чем было положено начало его созданию.

---

---

---

---

---

---

---

---

---

---

В 1950-х — середине 1985-х гг. был проведен ряд реформ с целью улучшить положение в сельском хозяйстве. Запишите известные вам реформы.

---

---

---

---

---

---

---

---

Выскажите свое мнение, почему, несмотря на все попытки, деятельность колхозов и совхозов оставалась недостаточно эффективной.

---

---

---

---

---

---

---

---





5. Используя материал параграфа учебного пособия, определите и объясните основные черты белорусской модели социально-экономического развития.

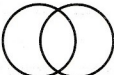
Характерные черты белорусской модели социально-экономического развития	Их сущность




## ОБОБЩЕНИЕ ПО РАЗДЕЛУ II «СОЦИАЛЬНО-ЭКОНОМИЧЕСКОЕ РАЗВИТИЕ БЕЛАРУСИ»

### Работаем с историческими понятиями

1. При помощи логических кругов выделите общее и различное в следующих парах исторических понятий.

Город  Местечко

Рынок  Ярмарка

Мануфактура  Фабрика

«Прусский путь» развития  «Американский путь» развития

---

---

---

---

---

---

---

---

---

---

### Характеризуем исторические явления

2. Охарактеризуйте современную белорусскую социально-экономическую модель, выделив и объяснив черты:

рыночной экономики	социально-ориентированной экономики

Вывод:

### Систематизируем исторические события

3. Объясните, почему тяжелая промышленность, не получившая должного развития в 1920-е — 1930-е гг., стала одной из ведущих отраслей в белорусской экономике в 1950-е — 1970-е гг.

---

---

---

---

---

4. Какие направления молодежной политики вы бы выделили как приоритетные и почему? Дополните их конкретными примерами.

---

---

---

---

---

---

---

---

### Устанавливаем причинно-следственные связи

5. Подтвердите или опровергните следующие утверждения:

а) активное развитие капиталистических отношений в Беларуси стало возможным только после отмены крепостного права;

---

---

---

---

---

---

---

б) «военный коммунизм» был единственно возможной и наиболее эффективной экономической политикой большевиков в условиях гражданской войны;

---

Обобщение по разделу II-2

### ОБОБЩЕНИЕ

Работаем с...

1. Распредел...

Однопартий...

шения, разбор...

циональный во...

политические ре...

доматы, реабили...

та еврейской осе...

Конец XVIII —

1917 г. — пер...

### Сравниваем

2. Заполните  
начала XX в.».

Революция	
Революция 1905—1907 гг.	
Февральская революция 1917 г.	
Октябрьская революция 1917 г.	
Вывод:	

Республики Бе-  
лагающими.

в) активная экономическая интеграция Республики Беларусь со странами СНГ обусловлена общим историческим прошлым и налаженными со времен СССР устойчивыми экономическими связями.

и революцион-

### Локализуем исторические события в пространстве

6. Напишите время возникновения городов, отмеченных на карте. Определите, что объединяет эти города. Соотнесите отрасли промышленности с теми городами, в которых они получили свое развитие.

Отрасли промышленности:

- машиностроение;
- соледобывающая;
- нефтеперерабатывающая;
- химическая.



