

Name : _____

Score : _____

Teacher : _____

Date : _____

Classify each angle as acute, obtuse, right, or straight.

1)  _____

6)  _____

2)  _____

7)  _____

3)  _____

8)  _____

4)  _____

9)  _____

5)  _____

10)  _____

11) 115° _____

16) 90° _____

12) 95° _____

17) 176° _____

13) 105° _____

18) 180° _____

14) 64° _____

19) 61° _____

15) 62° _____

20) 13° _____




Name : _____



Score : _____



Teacher : _____



Date : _____


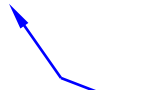
Classify each angle as acute, obtuse, right, or straight.

1)  Obtuse 6)  Acute

2)  Straight 7)  Acute

3)  Acute 8)  Obtuse

4)  Obtuse 9)  Acute

5)  Right 10)  Obtuse

11) 115° Obtuse 16) 90° Right

12) 95° Obtuse 17) 176° Obtuse

13) 105° Obtuse 18) 180° Straight

14) 64° Acute 19) 61° Acute

15) 62° Acute 20) 13° Acute

