

Name : _____

Score : _____

Teacher : _____

Date : _____


Classify each angle as acute, obtuse, right, or straight.

1)  _____

6)  _____

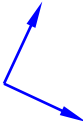
2)  _____

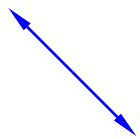
7)  _____

3)  _____

8)  _____

4)  _____

9)  _____

5)  _____

10)  _____

11) 26° _____

16) 90° _____

12) 50° _____

17) 125° _____

13) 138° _____

18) 127° _____

14) 85° _____

19) 131° _____

15) 83° _____

20) 180° _____



Name : _____

Score : _____

Teacher : _____

Date : _____

Classify each angle as acute, obtuse, right, or straight.



Acute




Obtuse



Acute



Acute



Obtuse




Obtuse



Acute



Right



Straight



Obtuse

11) 26°

Acute

16) 90°

Right

12) 50°

Acute

17) 125°

Obtuse

13) 138°

Obtuse

18) 127°

Obtuse

14) 85°

Acute

19) 131°

Obtuse

15) 83°

Acute

20) 180°

Straight

