

Atlas – La France et l'Europe

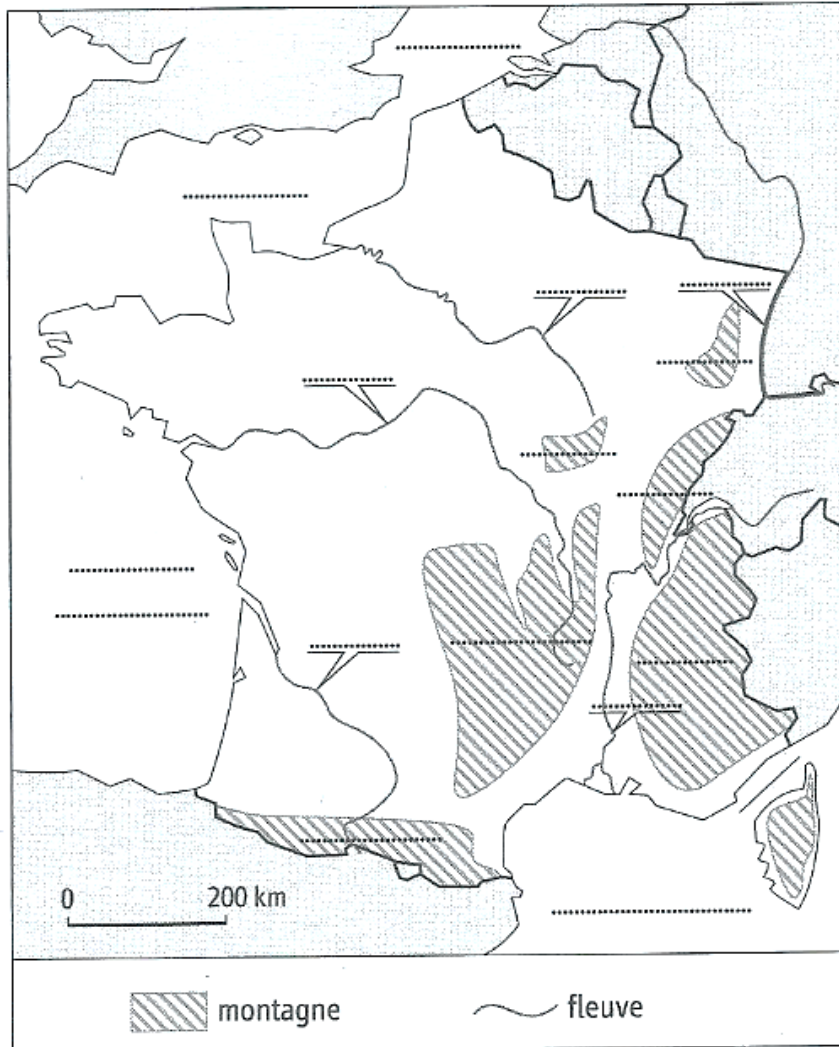
- **Carte 1** – Le relief de la France métropolitaine
- **Carte 2** – Les domaines bioclimatiques en France
- **Carte 3** – Les régions françaises et leur capitale
- **Carte 4** – Les principales aires urbaines françaises
- **Carte 5** – Les territoires ultramarins français et les espaces de la francophonie
 - **Carte 6** – L'Union européenne en 2020
 - **Carte 7** – Les régions ultrapériphériques de l'UE
 - **Carte 8** – L'Europe et ses métropoles

Les règles d'une bonne carte

- 1) Respecter le langage cartographique.** Manières d'écrire, couleurs, formes ont une signification : il faut les respecter (voir Padlet).
- 2) Respecter la TOLE** (Titre, Orientation, Légende, Échelle).
- 3) Être précis** dans les localisations. Le nom d'un lieu est écrit à l'endroit où se situe ce lieu, pas plusieurs centimètres plus loin.
- 4) Soigner son travail.** L'orthographe est correcte ; le coloriage est propre.
- 5) Utiliser le bon matériel.** Seuls les stylos et les crayons de couleurs doivent être utilisés. Feutres et surligneurs sont à bannir !



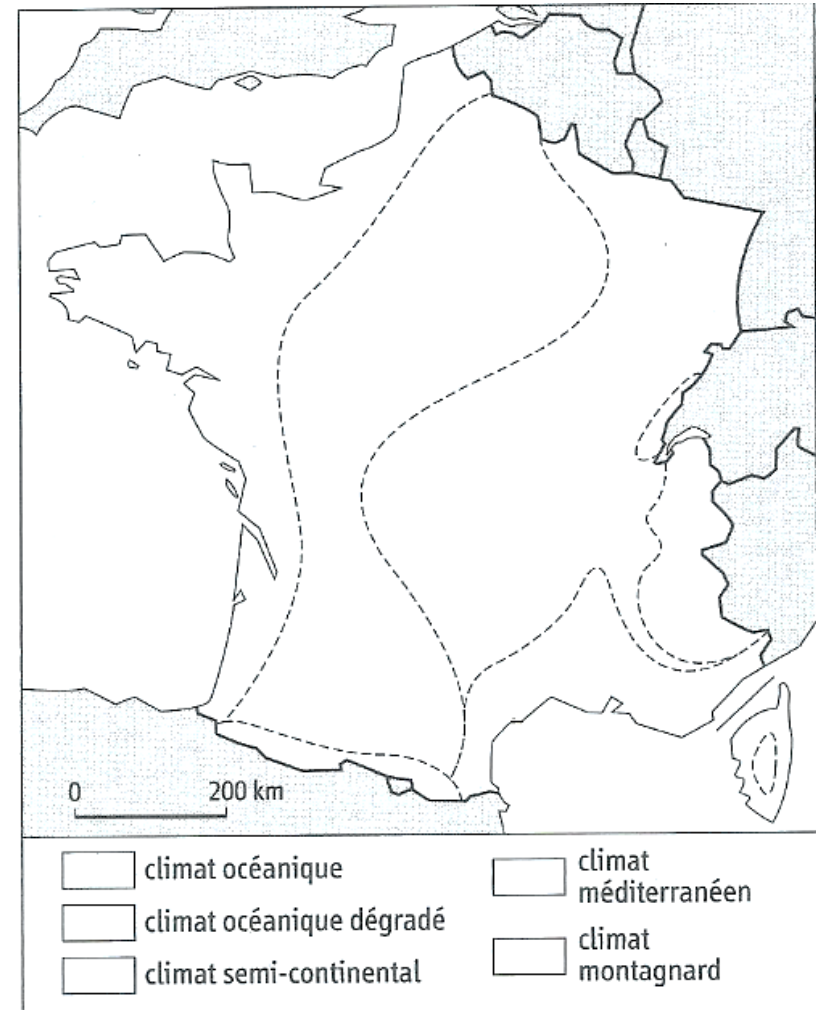
Carte 1 - Le relief de la France métropolitaine



Carte 3 p. 241

1. Nommez en majuscules bleues l'océan et en minuscules bleues les mers.
2. Nommez en minuscules bleues les fleuves puis repassez-les au crayon de couleur bleu. Complétez la légende.
3. Nommez en noir les montagnes.

Carte 2 - Les domaines bioclimatiques



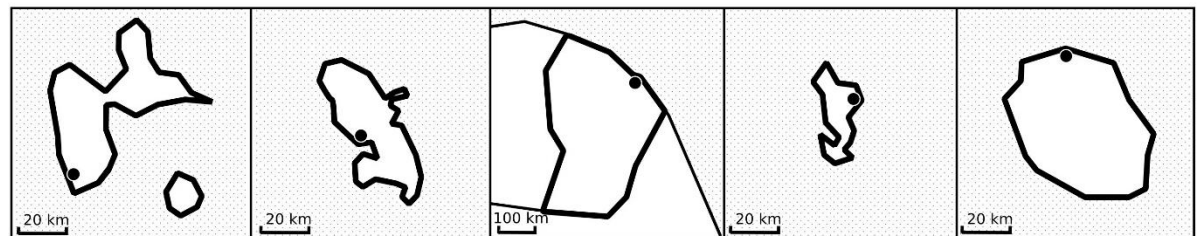
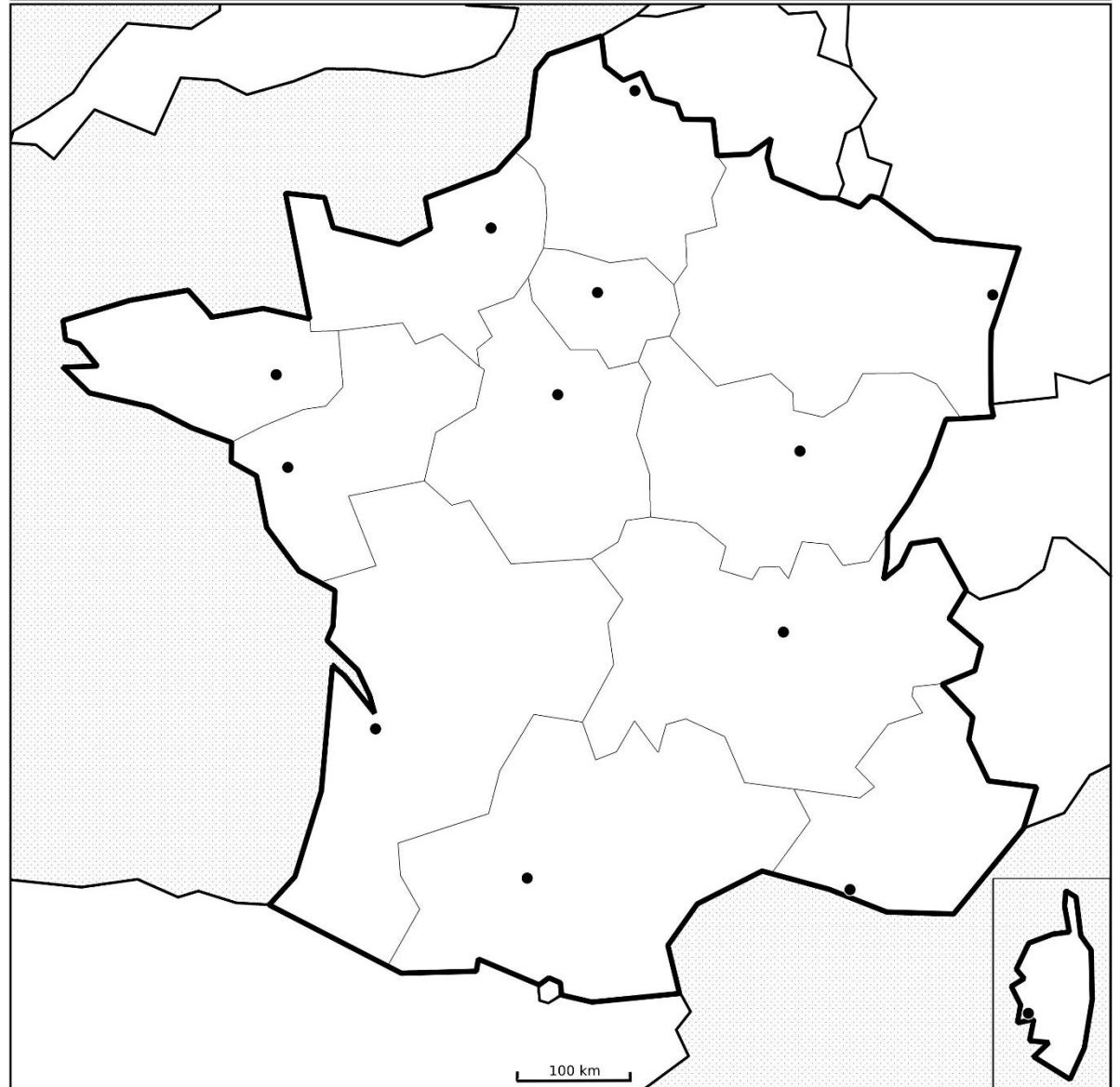
Carte 4 p. 241

1. Coloriez les grands domaines bioclimatiques et complétez la légende. Utilisez les mêmes couleurs que dans votre manuel.
2. Localisez et nommez en majuscules noires les pays limitrophes.

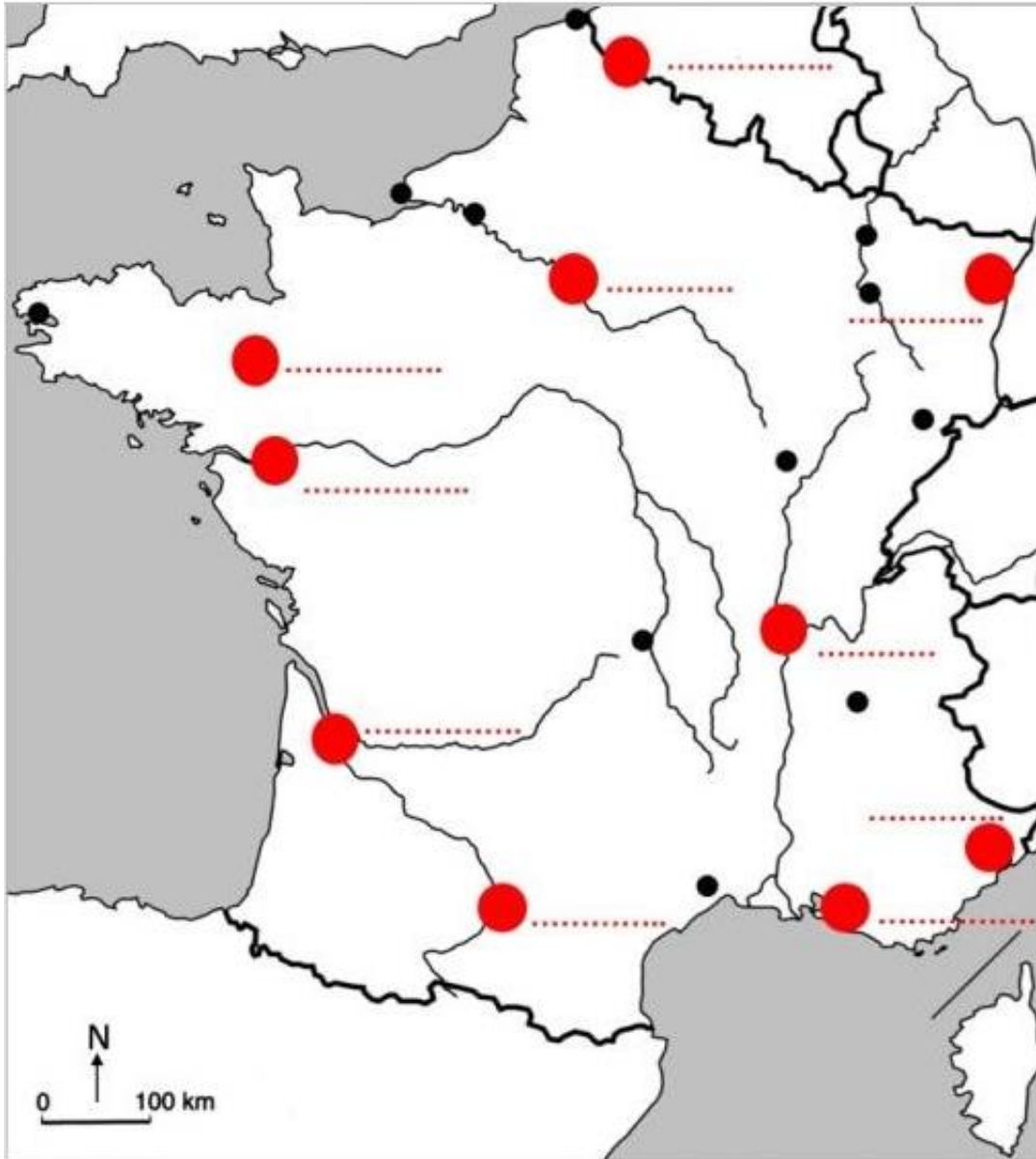
Carte 3 - Les régions françaises et leur capitale

Carte 5 et 6 p. 242

1. Localisez et nommez en majuscules bleues les océans et en minuscules bleues les mers qui bordent la France y compris les territoires d'outre-mer.
2. Nommez en majuscules noires les régions.
3. Nommez en minuscules noires les capitales régionales.



Carte 4 – Les principales aires urbaines françaises

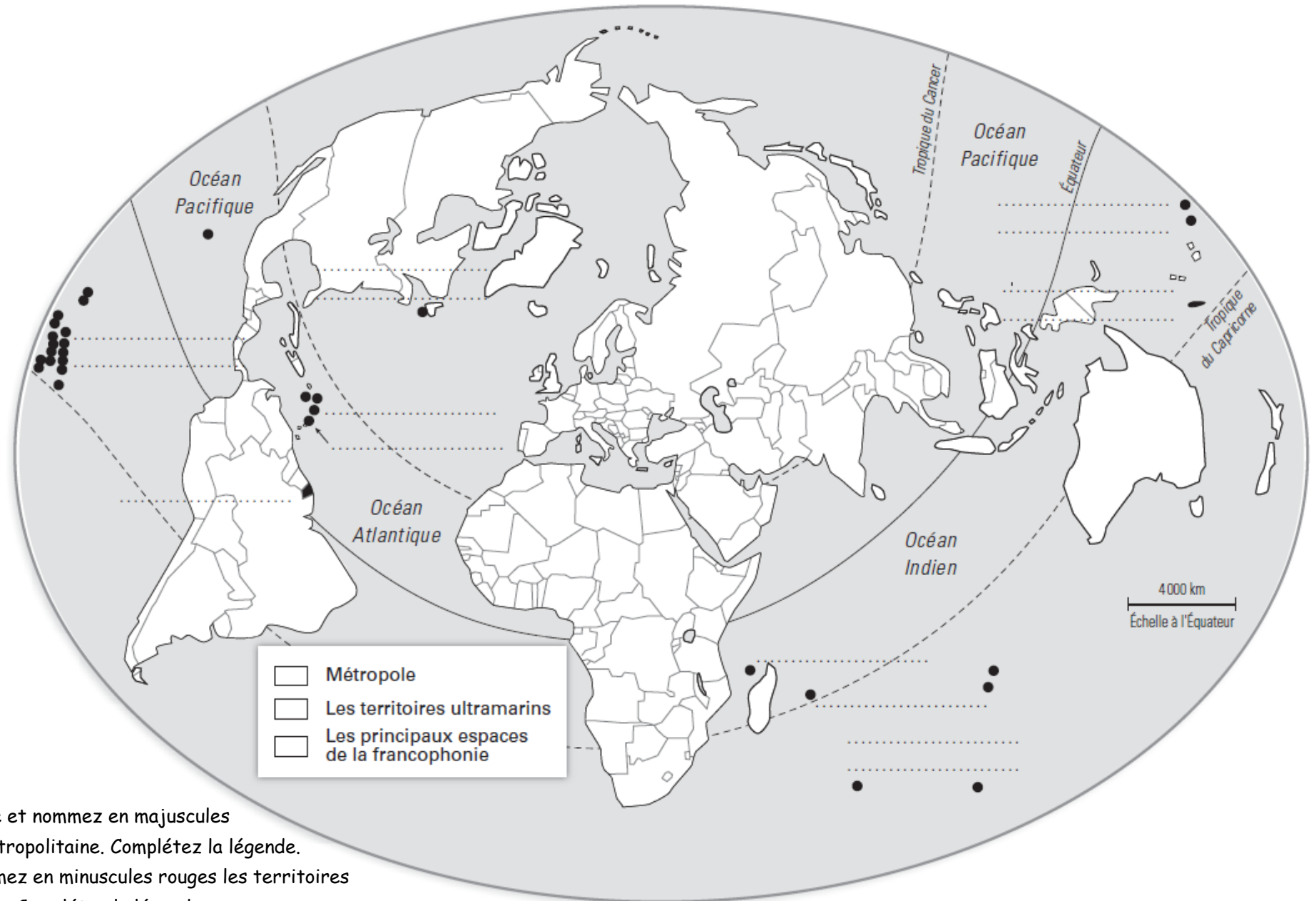


- Les 10 plus grandes aires urbaines
- Autres aires urbaines

Carte 5 p. 242

1. Localisez et nommez en majuscules bleues l'océan et en minuscules bleues les mers qui bordent la France.
2. Nommez en minuscules noires les 10 principales aires urbaines puis coloriez les points qui les représentent en rouge. Complétez la légende.
3. Nommez en minuscules noires les autres aires urbaines.

Carte 5 - Les territoires ultramarins et les espaces de la francophonie





Carte 2 p. 357

1. Coloriez en rouge et nommez en majuscules rouges la France métropolitaine. Complétez la légende.
2. Localisez et nommez en minuscules rouges les territoires ultramarins français. Complétez la légende.
3. Localisez et nommez en vert 5 pays dont le français est la langue officielle. Coloriez-les en vert. Complétez la légende.

Carte 6

L'Union européenne en 2020

-  États membre de l'UE en 2020
-  État ayant quitté l'UE au 1^{er} février 2020

● Capitales des États

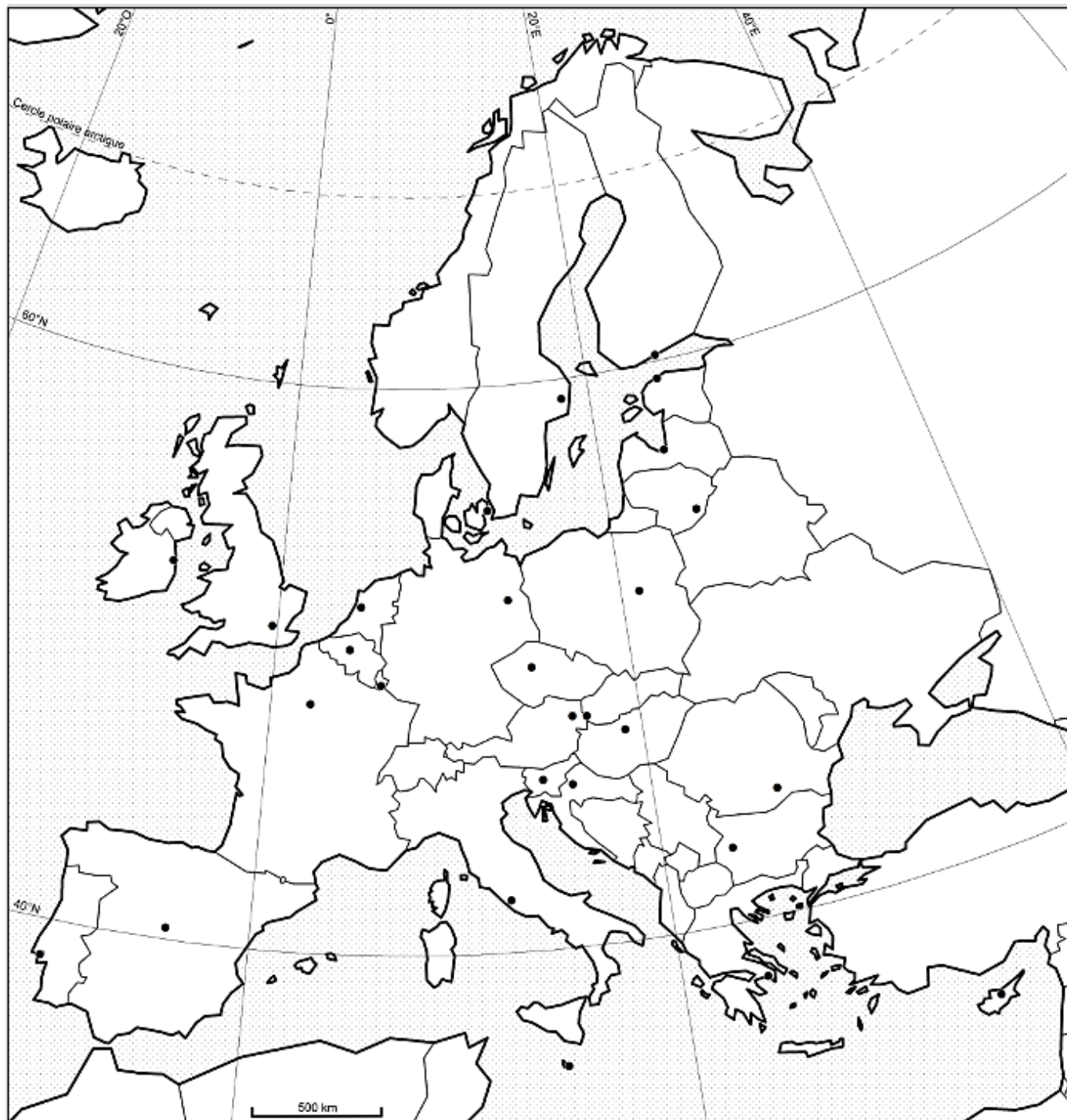
Sièges des institutions de l'UE



- **Bruxelles** : Commission européenne ; Parlement européen
- **Francfort** : Banque centrale européenne
- **Luxembourg** : Cour de Justice ; Commission européenne
- **Strasbourg** : Parlement européen

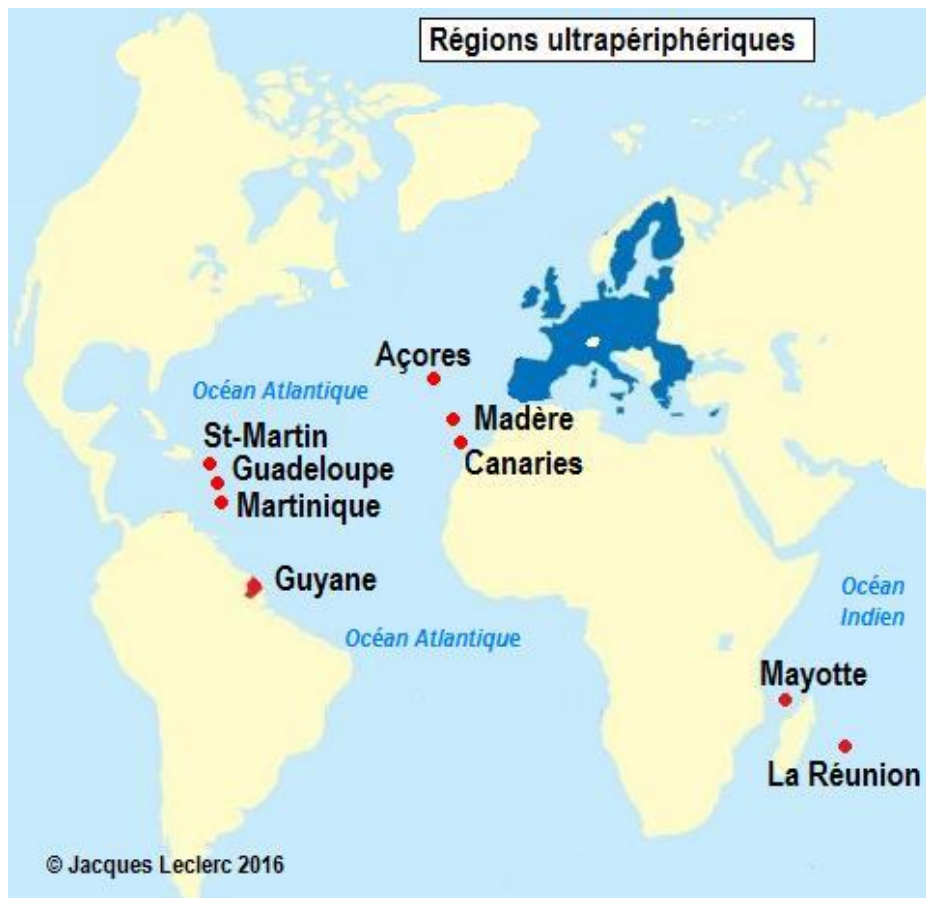
Carte 8 p. 244 + carte 1 p. 368

1. Localisez et nommez en majuscules bleues les océans et en minuscules bleues les mers.
2. Localisez et nommez en majuscules noires les 27 États membres de l'UE. Coloriez-les en jaune et complétez la légende.
3. Coloriez en orange l'État qui a quitté l'UE. Complétez la légende.
4. Nommez en noir les capitales de chaque État membre.
5. Entourez en rouges les capitales de l'UE puis complétez la légende.




Carte 7

Les régions ultrapériphériques (RUP) de l'UE

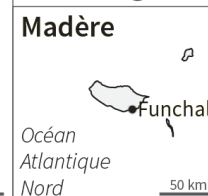


Régions Ultrapériphériques de l'Union Européenne (RUP)

Açores



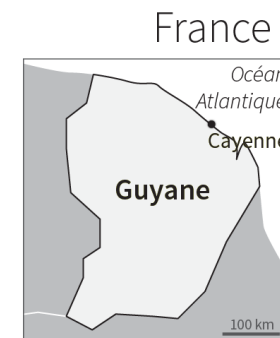
Portugal



Canaries



Espagne



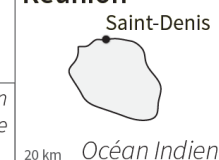
Guadeloupe




Martinique



Réunion



Mayotte



Carte 8 – L'Europe et ses métropoles

- Les principales métropoles européennes
- Dorsale européenne

Carte 2 p. 368

1. Localisez et nommez en capitales bleues les océans et en minuscules bleues les mers.
4. Localisez et nommez en noir les 10 principales métropoles européennes (minuscules) et le pays dans lequel elles se situent (majuscules).

