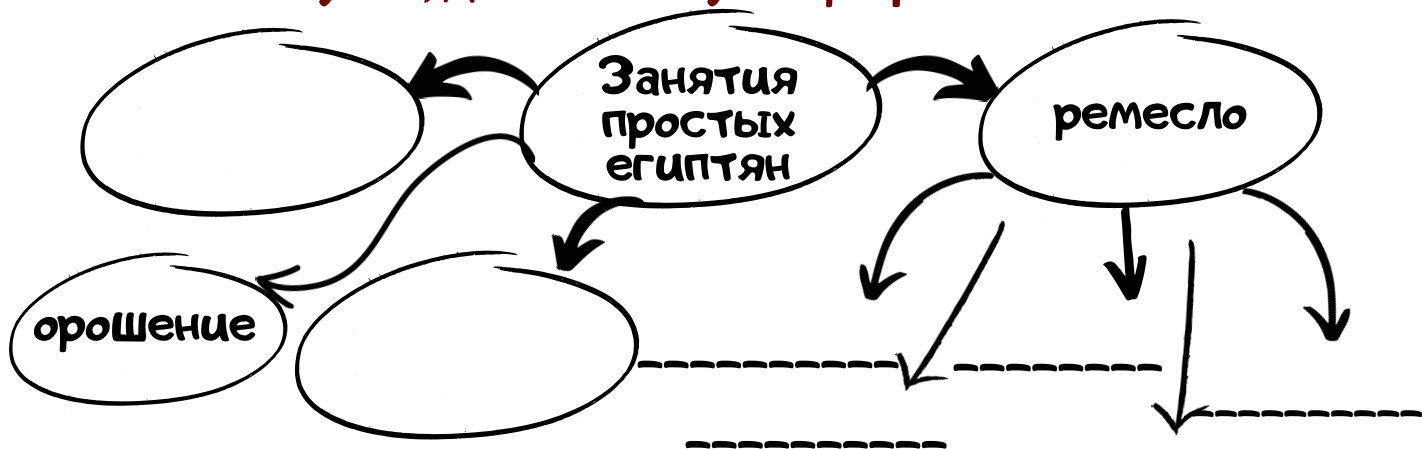


БЫТ И ПОВСЕДНЕВНАЯ ЖИЗНЬ

1. С помощью п.1 и п.2 определите, кого относили к простым и знатым египтянам:

ПРОСТЫЕ ← Египтяне → ЗНАТНЫЕ

2. Используя п.1, дополните пустографы схемы



3. Составьте с помощью п.5 меню египтянина




Знатые

П
И
Т
А
Н
И
Е




Простые

4. С помощью п.3 определите, какую одежду носили египтяне



Знатые

О
Д
Е
Ж
Д
А



Простые

4. Прочитайте п.4 и напишите факты о египетской семье

Египетская семья

«Любим богом
послушный,
непослушный
ненавидим
богом»



5. Используя материал п.1 и п.2 выпишите интересные факты о жилище знатного и простого египтянина

простые египтяне

ЖИЛИЩЕ

знатные египтяне

6. Составьте план-схему поместья знатного египтянина. Подпишите объекты, размещенные на схеме.



Объекты:

Фараон Нижнего и Верхнего Царства Египетского, а также все его поданные желают успехов и плодотворной работы 😊